

REGELUNGSTECHNIK OHNE DIFFERENTIALGLEICHUNGEN

Eine Einführung anhand elementarer, einfacher Beispiele, die mit Hilfe einer Tabellenkalkulation durchgerechnet werden.

Voraussetzungen:

- Kenntnisse eines Tabellenkalkulationsprogramms (wie z.B. EXCEL)
- Für einige Beispiele ist es vorteilhaft, den Begriff der Ableitung (höhere Mathematik) zu kennen.

1 Mathematische Vorbereitungen

Version: 5.1.98

1.1 Berechnung der Geschwindigkeit und der Beschleunigung eines Autos mit Hilfe einer Radarfalle

Von einem festen Ausgangspunkt aus fährt ein Auto los und hat damit zu einem beliebigen Zeitpunkt t eine Strecke $x(t)$ zurückgelegt.

1.1.1 Ziel

Alle Δt Sekunden soll die von diesem festen Ausgangspunkt zurückgelegte Strecke dieses Autos gemessen werden und jeweils aus der vorgegebenen Zeit bzw. der gemessenen Strecke die Geschwindigkeit und die Beschleunigung berechnet werden.

Die Zeitpunkte t_n nach denen die zurückgelegte Strecke gemessen werden soll ist also:

$$t_n = n \Delta t, \quad n=0, 1, 2, 3, \dots$$

Die zurückgelegte Strecke zum Zeitpunkt t_n wird mit $x_n = x(t_n)$ bezeichnet.

Die zu berechnende Geschwindigkeit zum Zeitpunkt t_n wird mit $v_n = v(t_n)$ bezeichnet.

Die zu berechnende Beschleunigung zum Zeitpunkt t_n wird mit $a_n = a(t_n)$ bezeichnet.

1.1.2 Berechnung der Geschwindigkeit v_n zum Zeitpunkt t_n

Die (momentane) Geschwindigkeit v_n zum Zeitpunkt t_n kann nicht exakt berechnet werden.

Man kann sie nur durch die Durchschnittsgeschwindigkeit \bar{v}_n im Streckenintervall

$[x_n, x_{n+1}]$ bzw. im zugehörigen Zeitintervall $[t_n, t_{n+1}]$ annähern.

Die Durchschnittsgeschwindigkeit \bar{v}_n beträgt:

$$\bar{v}_n = (x_{n+1} - x_n) / \Delta t$$

v_n wird durch \bar{v}_n angenähert. Dies wird durch folgende Bezeichnung ausgedrückt:

$$v_n \approx \bar{v}_n$$

also:

$$(V 1) \quad v_n \approx (x_{n+1} - x_n) / \Delta t$$

1.1.3 Berechnung der Beschleunigung a_n zum Zeitpunkt t_n :

Die (momentane) Beschleunigung a_n zum Zeitpunkt t_n kann nicht exakt berechnet werden. Man kann sie nur durch die Durchschnittsbeschleunigung \bar{a}_n im Streckenintervall $[x_n, x_{n+1}]$ bzw. im zugehörigen Zeitintervall $[t_n, t_{n+1}]$ annähern.

Die Durchschnittsbeschleunigung \bar{a}_n beträgt:

$$\bar{a}_n = (v_{n+1} - v_n) / \Delta t$$

a_n wird durch \bar{a}_n angenähert. Dies wird durch folgende Bezeichnung ausgedrückt:

$$a_n \approx \bar{a}_n$$

v_{n+1} und v_n lassen sich wie oben annähern durch:

$$v_n \approx (x_{n+1} - x_n) / \Delta t$$

$$v_{n+1} \approx (x_{n+2} - x_{n+1}) / \Delta t$$

eingesetzt:

$$a_n \approx \bar{a}_n = (v_{n+1} - v_n) / \Delta t \approx (\bar{v}_{n+1} - \bar{v}_n) / \Delta t = ((x_{n+2} - x_{n+1}) / \Delta t - (x_{n+1} - x_n) / \Delta t) / \Delta t$$

also:

$$(A1) \quad a_n \approx (x_{n+2} - 2x_{n+1} + x_n) / \Delta t^2$$

1.2 Bemerkungen

1.2.1 Dimensionen

Wenn bei den folgenden physikalischen Größen keine Dimensionen angegeben sind, werden bei den physikalischen Größen folgende Dimensionen stillschweigend vorausgesetzt:

Physikalische Größe	Dim
Zeit	s
Strecke	m
Geschwindigkeit	m/s
Beschleunigung	m/s ²
Temperatur	°C

1.2.2 Bezeichnungen

Strenggenommen müßten alle Größen, die von der Zeit t abhängen wie folgt geschrieben werden:

$x(t)$, $v(t)$, $y(t)$ usw.

Aus optischen Gründen läßt man oft den Parameter t weg und schreibt dann:

x , v , y usw.

2 Grundlagen aus der Regelungstechnik

Das *Regeln* (die Regelung) ist ein Vorgang, bei dem eine Größe, die zu regelnde Größe (*Regelgröße*), fortlaufend erfaßt, mit einer anderen Größe, der Führungsgröße, verglichen und abhängig vom Ergebnis dieses Vergleichs im Sinne einer Angleichung an die Führungsgröße beeinflusst wird. Der sich dabei ergebende Wirkungsablauf findet in einem geschlossenen Kreis, dem *Regelkreis*, statt.

Der *Regelkreis* besteht aus *Regelkreisgliedern*, und zwar dem *Regler* und der *Regelstrecke*.

Die *Regelstrecke* stellt den aufgabenmäßig zu beeinflussenden Teil des Regelkreises dar.

Die *Regeleinrichtung* (Regler) ist der Teil des Regelkreises, welcher die aufgabenmäßige Beeinflussung der Regelstrecke bewirkt.

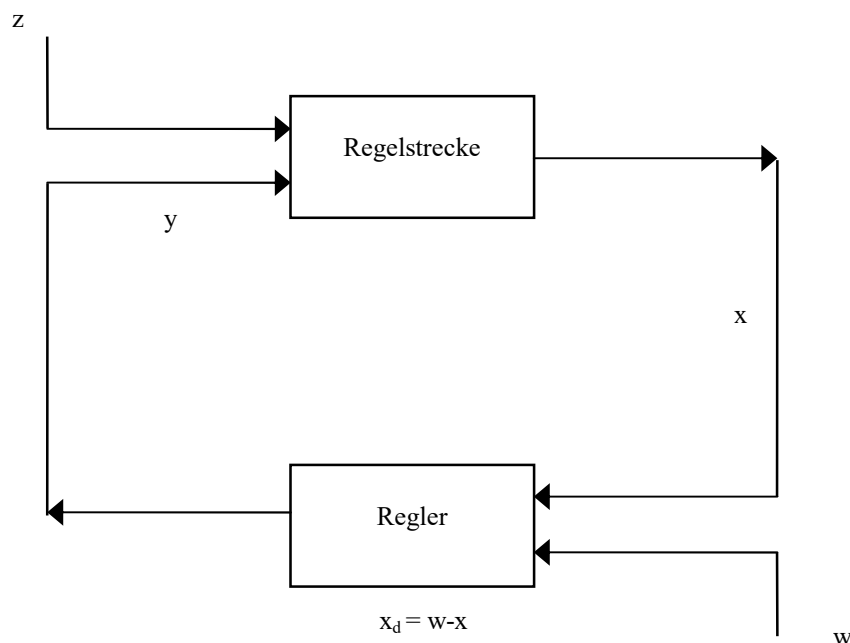
Die *Stellgröße* y ist die Ausgangsgröße der Regeleinrichtung und zugleich Eingangsgröße der Regelstrecke. Sie überträgt die steuernde Wirkung der Regeleinrichtung auf die Regelstrecke.

Die *Regelgröße* x ist die Größe, die zum Zwecke des Regeln erfaßt und der Regeleinrichtung zugeführt wird.

Störgrößen z sind alle von außen wirkenden Größen, soweit sie die beabsichtigte Beeinflussung in einer Regelung beeinträchtigen.

Die *Führungsgröße* w einer Regelung ist eine von der Regelung unmittelbar nicht beeinflusste Größe, die dem Regelkreis von außen zugeführt wird und der die Regelgröße folgen soll.

Schematisch stellt man einen Regelkreis durch ein Blockschaltbild dar:



Die Zeit, die zwischen dem Eingang einer Information an einem Regelkreisglied und dem Auftreten der Reaktion an diesem Regelkreisglied verstreicht, heißt *Totzeit*.

2.1 Das Zeitverhalten von Regelkreisgliedern

Das Zeitverhalten eines Regelkreisgliedes gibt an, in welcher Weise die Ausgangsgröße x_a einer veränderlichen Eingangsgröße x_e folgt.

2.1.1 Für Leser mit Kenntnissen aus der Differential- und Integralrechnung

Diese folgenden Kapitel können von Lesern, die keine Kenntnisse aus der Differential- und Integralrechnung haben, weggelassen werden.

2.1.1.1 P-Glied ohne bzw. mit Totzeit ohne bzw. mit Verzögerung

$$(P\ 1) \quad \dots a_2 \ddot{x}_a(t) + a_1 \dot{x}_a(t) + x_a(t) = b_0 x_e(t)$$

Die Verzögerung ist von n. Ordnung, wenn die Anzahl der Koeffizienten a_i gleich n ist. Das Regelkreisglied hat keine Verzögerung, wenn die Verzögerung 0. Ordnung ist.

Besitzt das Regelkreisglied noch eine Totzeit T_t , dann muß in Gleichung (P 1) $x_e(t)$ durch $x_e(t - T_t)$ ersetzt werden.

2.1.1.1.1 P-Glied ohne Totzeit mit Verzögerung 0. Ordnung (ideales P-Glied)

$$x_a(t) = b_0 x_e(t) \quad P - T_0$$

2.1.1.1.2 P-Glied ohne Totzeit mit Verzögerung 2. Ordnung

$$a_2 \ddot{x}_a(t) + a_1 \dot{x}_a(t) + x_a(t) = b_0 x_e(t) \quad P - T_2$$

2.1.1.1.3 P-Glied mit Totzeit mit Verzögerung 1. Ordnung

$$a_1 \dot{x}_a(t) + x_a(t) = b_0 x_e(t - T_t) \quad P - T_t - T_1$$

2.1.1.2 I-Glied ohne bzw. mit Totzeit ohne bzw. mit Verzögerung

$$(I\ 1) \quad \dots a_2 \ddot{x}_a(t) + a_1 \dot{x}_a(t) = b_0 x_e(t)$$

Die Verzögerung ist von n. Ordnung, wenn die Anzahl der Koeffizienten a_i gleich n ist.

Besitzt das Regelkreisglied noch eine Totzeit T_t , dann muß in Gleichung (I 1) $x_e(t)$ durch $x_e(t - T_t)$ ersetzt werden.

2.1.1.2.1 I-Glied ohne Totzeit mit Verzögerung 1. Ordnung

$$a_1 \dot{x}_a(t) = b_0 x_e(t) \quad I - T_1$$

2.1.1.2.2 I-Glied mit Totzeit mit Verzögerung 2. Ordnung

$$a_2 \ddot{x}_a(t) + a_1 \dot{x}_a(t) = b_0 x_e(t - T_t) \quad P - T_t - T_2$$

2.1.1.3 D-Glied ohne bzw. mit Totzeit ohne bzw. mit Verzögerung

$$(D\ 1) \quad \dots a_2 * \ddot{x}_a(t) + a_1 * \dot{x}_a + x_a(t) = b_1 \dot{x}_e$$

Die Verzögerung ist von n. Ordnung, wenn die Anzahl der Koeffizienten a_i gleich n ist. Das Regelkreisglied hat keine Verzögerung, wenn die Verzögerung 0. Ordnung ist.

Besitzt das Regelkreisglied noch eine Totzeit T_t , dann muß in Gleichung (D 1) $x_e(t)$ durch $x_e(t - T_t)$ ersetzt werden.

2.1.1.4 Ideales PI - Glied

$$\dot{x}_a(t) = b_0 x_e(t) + b_1 \dot{x}_e(t) \quad \text{PI- } T_0$$

2.1.1.5 Ideales PD - Glied

$$x_a(t) = b_0 x_e(t) + b_1 \dot{x}_e(t) \quad \text{PD- } T_0$$

2.1.1.6 Ideales PID - Glied

$$\dot{x}_a(t) = b_0 x_e(t) + b_1 \dot{x}_e(t) + b_2 \ddot{x}_e(t) \quad \text{PID- } T_0$$

2.1.2 Das Zeitverhalten einiger Regler

2.1.2.1 PI-Regler

$$\dot{y}(t) = K_P * \dot{x}(t) + K_I * (w - x(t))$$

2.1.2.2 PD-Regler

$$y(t) = K_P * (w - x(t)) + K_D * \dot{x}(t)$$

2.1.2.3 PID-Regler

$$\dot{y}(t) = K_P * \dot{x}(t) + K_I * (w - x(t)) + K_D * \ddot{x}(t)$$

2.1.3 Für Leser ohne Kenntnisse aus der Differential- und Integralrechnung

Die folgenden Kapitel müssen von Lesern, die keine Kenntnisse aus der Differential- und Integralrechnung haben, gelesen werden.

2.1.3.1 P-Glied ohne Totzeit mit Verzögerung 0. Ordnung (ideales P-Glied)

$$x_a(t) = b_0 x_e(t) \quad P - T_0$$

2.1.3.2 P-Glied mit Totzeit mit Verzögerung 0. Ordnung

$$x_a(t) = b_0 x_e(t - T_t) \quad P - T_t - T_0$$

2.1.3.3 P-Glied ohne Totzeit mit Verzögerung 1. Ordnung

$$a_1 * v_a(t) + x_a(t) = b_0 x_e(t) \quad P - T_1$$

wobei $v_a(t)$ die zeitliche Änderung von $x_a(t)$ ist, d.h., wenn $x_a(t)$ die Strecke (m) eines Punktes zum Zeitpunkt t angibt, gibt $v_a(t)$ die Geschwindigkeit (m / s) dieses Punktes zum Zeitpunkt t an.

oder:

wenn $x_a(t)$ die Temperatur ($^{\circ}$ C) eines Körpers zum Zeitpunkt t angibt, gibt $v_a(t)$ die Temperaturänderung (grd / s) eines Körpers zum Zeitpunkt t an.

2.1.3.4 I-Glied ohne Totzeit mit Verzögerung 1. Ordnung (ideales I-Glied)

$$a_1 * v_a(t) = b_0 x_e(t) \quad I - T_1$$

wobei $v_a(t)$ die zeitliche Änderung von $x_a(t)$ ist, d.h., wenn $x_a(t)$ die Strecke (m) eines Punktes zum Zeitpunkt t angibt, gibt $v_a(t)$ die Geschwindigkeit (m / s) dieses Punktes zum Zeitpunkt t an.

oder:

wenn $x_a(t)$ die Temperatur ($^{\circ}$ C) eines Punktes zum Zeitpunkt t angibt, gibt $v_a(t)$ die Temperaturänderung (grd / s) dieses Punktes zum Zeitpunkt t an.

2.1.4 Bemerkungen zum Zeitverhalten der Regelstrecke

Bei der Angabe des Zeitverhaltens der Regelstrecke wird immer von der die Regelstrecke außerdem beeinflussender Störgröße abgesehen (d.h. $z = 0$ angenommen).

Beispiel:

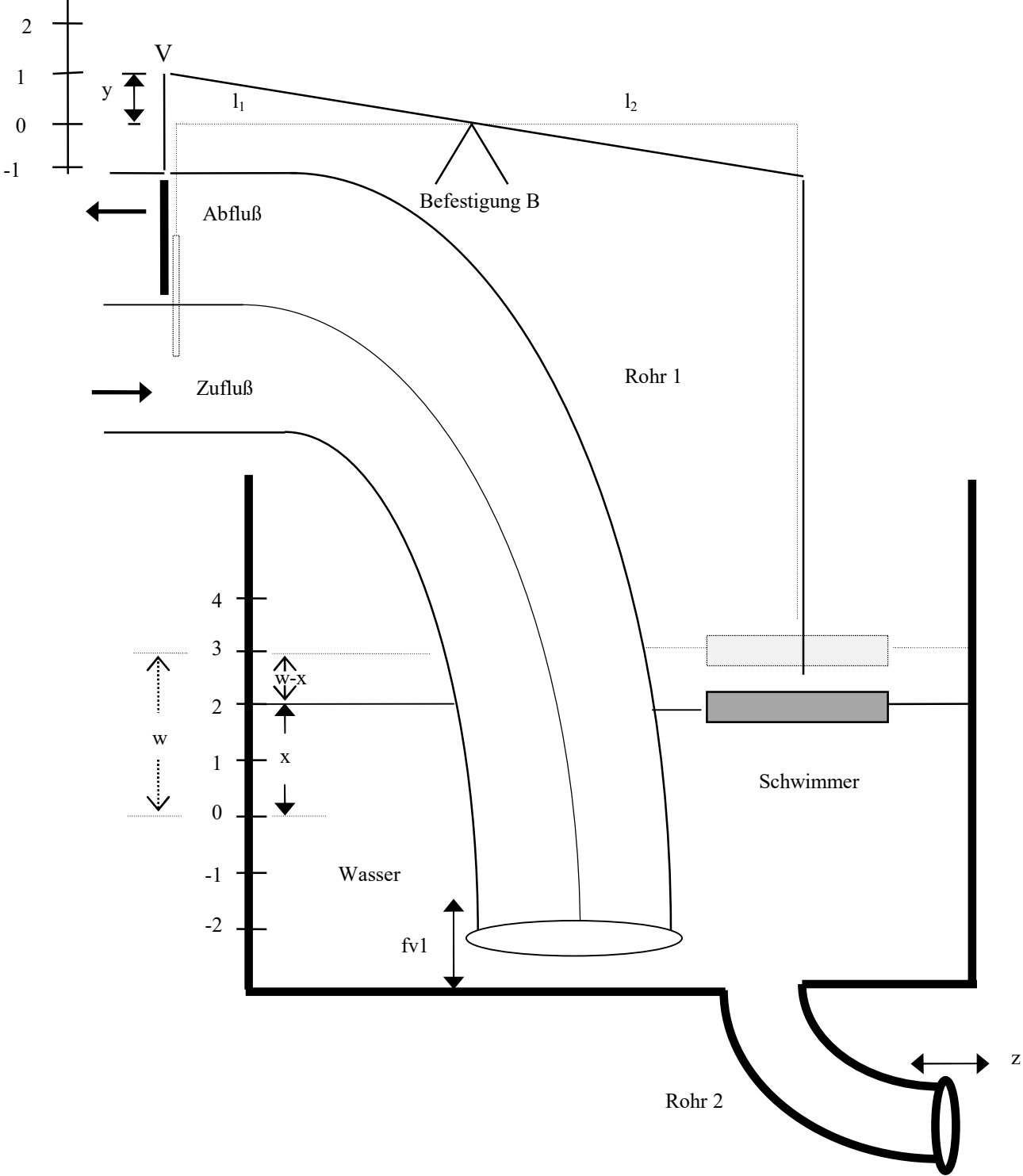
gegeben: P- T_0 Regelstrecke

also: $x(t) = k * y(t)$

um das tatsächliche Zeitverhalten der Regelstrecke zu beschreiben, muß man noch die Störgröße z berücksichtigen, zum Beispiel:

$$x(t) = k * y(t) + z(t)$$

3 Leitbeispiel 1 eines Regelkreises: Schwimmbecken mit Regler



Abkürzungen:

- y: Stellgröße (m) = Abstand des Punktes V von seiner „Normallage“
yv: Geschwindigkeit (m/s) des Punktes V
ya: Beschleunigung (m/s²) des Punktes V
x: Regelgröße (m) = Wasserhöhe des Wasserpegels (über dem Boden des Wasserbehälters)
(= Höhe des Schwimmers über dem Boden des Wasserbehälters)
v: Geschwindigkeit (m/s) des Wasserpegels = Geschwindigkeit des Schwimmers ($= \dot{x}(t)$)
a: Beschleunigung (m/s²) des Wasserpegels = Beschleunigung des Schwimmers ($= \ddot{x}(t)$)
z: Störgröße (m/s) = Geschwindigkeit des Flusses (Zufluß bzw. Abfluß) in Rohr 2
(wird auch z_v genannt)
za: Beschleunigung (m/s²) des Flusses in Rohr 2
w: Führungsgröße (m)

fv1: Geschwindigkeit (m/s) des Flusses (Flußgeschwindigkeit) in Rohr 1
fv2: Geschwindigkeit (m/s) des Flusses (Flußgeschwindigkeit) in Rohr 2 = z = z_v
fa1: Beschleunigung (m/s²) des Flusses (Flußbeschleunigung) in Rohr 1
fa2: Beschleunigung (m/s²) des Flusses (Flußbeschleunigung) in Rohr 2 = z_a

3.1 Beschreibung

Bei der Regelung der Wasserhöhe (Wasserstand, Höhe des Wasserpegels) in einem Wasserbehälter wird das Ventil im Rohr 1 über einen Hebel von einem Schwimmer verstellt. Rohr 1 hat einen quadratischen Querschnitt und besteht intern aus einem Zufluß und einem Abfluß.

Wenn sich das Ventil mehr im Zufluß als im Abfluß befindet, versperrt es mehr vom Zufluß als vom Abfluß, so daß insgesamt Wasser aus dem Wasserbehälter über Rohr 1 abfließt.

Wenn sich das Ventil mehr im Abfluß als im Zufluß befindet, versperrt es mehr vom Abfluß als vom Zufluß, so daß insgesamt Wasser in den Wasserbehälter über Rohr 1 zufließt.

Der Fluß in Rohr 1 (bzw. Rohr 2) ist positiv wenn aus Rohr 1 (bzw. Rohr 2) Wasser in den Wasserbehälter zufließt oder negativ wenn aus Rohr 1 (bzw. Rohr 2) Wasser aus dem Wasserbehälter abfließt.

3.1.1 Messung des Flußes in Rohr 1 bzw. Rohr 2

Der Fluß in Rohr 1 (bzw. Rohr 2) wird oft in Volumeneinheiten pro Zeiteinheit gemessen, wie z.B. 10 l/s

Wir messen ihn hier anders:

Der Fluß in Rohr 1 veranlaßt eine Veränderung der Wasserhöhe im Wasserbehälter. Wir messen deshalb den Fluß aus Rohr 1 als die Wasserhöhenänderung pro Zeiteinheit (falls Rohr 2 verschlossen wäre), wie z.B. $0,002 \text{ m/s}$.

Genauso wird der Fluß in Rohr 2 als die Wasserhöhenänderung pro Zeiteinheit gemessen (falls Rohr 1 verschlossen wäre). Der Fluß stellt also eine Geschwindigkeit dar.

Diese Art der Messung kennt man aus der Wetterkunde:

Dort wird die Niederschlagsmenge in cm (Wasserhöhe) pro Jahr angegeben.

Steigt die Wasserhöhe, dann bewegt sich das Ventil nach unten. Dann wird der Fluß kleiner. Das heißt, der Zufluß wird kleiner und der Abfluß größer.

Sinkt die Wasserhöhe, dann bewegt sich das Ventil nach oben. Dann wird der Fluß größer. Das heißt, der Zufluß wird größer und der Abfluß kleiner.

3.2 Regelungstechnische Begriffe in diesem Regelkreis

Die Regelgröße x (in m) ist die Wasserhöhe des Wasserpegels über dem Boden des Wasserbehälters.

Die Stellgröße y (in m) ist der Abstand des Punktes V von seiner „Normallage“ (in der Normallage ist der Fluß gleich 0). In der Zeichnung ist die Normallage gestrichelt gekennzeichnet.

Die Störgröße z (in m/s) ist die Geschwindigkeit des Flußes (Zufluß oder Abfluß) in Rohr 2.

Die Führungsgröße w (in m) ist die Wasserhöhe, bei welcher der Fluß in Rohr 1 gleich 0 wird, d.h. bei welchem Wert der Regelgröße x der Wert der Stellgröße y gleich 0 wird. Das heißt, man kann die Führungsgröße w aus der Zeichnung ablesen, indem man gedanklich die Stellgröße y auf 0 bringt (in seine „Normallage“) und die zugehörige Wasserhöhe x abliest.

Dies ist dann die Führungsgröße w .

Die Führungsgröße wird durch die Höhe der Befestigung B bestimmt.

3.3 Die Gleichung des Reglers

Der Regler ist ein Proportionalregler (ohne Totzeit), das heißt die Abweichung $x_d = w - x$ von der Führungsgröße w ist proportional der Stellgröße y .

Die Proportionalitätskonstante k_{PR} ist das Verhältnis von den Längen l_1 und l_2 des Hebels.

$k_{PR} = l_1 / l_2$, also:

Regler:

$$(R 1) \quad y(t) = k_{PR} (w - x(t))$$

Beispiel (mit Dimensionen):

Annahme: $w=1m$, $k_{PR}=0,01$, $x=3m$

dann gilt für die Stellgröße y :

$$y = 0,01 * (1m - 3m) = 0,01 * -2m = -0,02m$$

3.4 Die Gleichung der Regelstrecke

Die Geschwindigkeit des Wasserpegels (= Geschwindigkeit des Schwimmers) ergibt sich aus der Summe der Geschwindigkeiten der Flüsse (= $f_{v1} + f_{v2}$) aus dem Schwimmbecken, ist also die Summe vom Fluß in Rohr 1 und dem Fluß in Rohr 2.

Da man empirisch (durch praktische Messungen) feststellen kann (oder durch einfache mathematische Überlegungen, auf die hier nicht eingegangen werden sollen), daß der Fluß in Rohr 1 gleich einer Proportionalitätskonstanten k_{IS} multipliziert mit der Stellgröße y ist und der Fluß in Rohr 2 gleich der Störgröße z ist, gilt für die Geschwindigkeit des Wasserpegels (außerdem ist die Anfangswasserhöhe gleich x_{anf}):

Regelstrecke:

$$(S 1) \quad \begin{aligned} v(t) &= k_{IS} y(t) + z(t) \\ x(0) &= x_{anf} \end{aligned}$$

Wenn für die Geschwindigkeit $v(t)$ des Wasserpegels und der Strecke $y(t)$ der Stellgröße der obige Zusammenhang (S 1) besteht, so folgt daraus, daß zwischen der zeitlichen Veränderung der Geschwindigkeit $v(t)$, (= der Beschleunigung $a(t)$ des Schwimmers), der zeitlichen Veränderung $y(t)$ des Punktes V (= der Geschwindigkeit $yv(t)$ des Punktes V) und der zeitlichen Veränderung $z(t)$ des Flußes in Rohr 2 (= der Beschleunigung $za(t)$ des Flußes in Rohr 2) der folgende Zusammenhang besteht:

(mathematisch exakt formuliert: Die Gleichung (S 1) wird auf jeder Seite abgeleitet (Fachterminus)).

$$\begin{aligned} a(t) &= k_{IS} yv(t) + za(t) \\ x(0) &= x_{anf} \end{aligned}$$

4 Rechenbeispiel zu Leitbeispiel 1: idealer P-Regler, I-Regelstrecke ohne Störgröße, ohne Totzeit, mit Verzögerung 1. Ordnung

Gegeben ist ein Regelkreis wie aus dem Leitbeispiel 1.

4.1 Bekannte Größen (Kenngrößen) des Regelkreises

Regler:	P-T ₀	(P-Glied ohne Totzeit mit Verzögerung 0. Ord.)
Regelstrecke:	I-T ₁	(I-Glied ohne Totzeit mit Verzögerung 1. Ord.)
Führungsgröße	w = 2	
Konstante:	k _{PR} = 2	
Konstante:	k _{IS} = 0,5	
Anfangswasserhöhe:	x(0) = xanf = 0	
Störgröße:	z(t) = 0	(Das Schwimmbecken hat kein Rohr 2)

4.2 Die Gleichung des Reglers

Da es sich um einen Proportionalregler (P-T₀) handelt, gilt für die Stellgröße y:

Regler:

$$(R 2) \quad y(t) = k_{PR} * (w - x(t))$$

4.3 Die Gleichung der Regelstrecke

Da das Schwimmbecken kein Rohr 2 hat (d.h. Störgröße z(t) = 0), gilt für die Geschwindigkeit des Wasserpegels v(t), zum Zeitpunkt t (siehe (S 1)), (außerdem ist die Anfangswasserhöhe gleich xanf):

Regelstrecke:

$$(S 2) \quad \begin{aligned} v(t) &= k_{IS} * y(t) \\ x(0) &= xanf \end{aligned}$$

4.4 Der Wert von $v(t)$ nach der Zeit t

Aus den Gleichungen für den Regler und der Regelstrecke folgt die Gleichung für den *Regelkreis*:

$$(K 1) \quad \begin{aligned} v(t) &= k_{IS} * k_{PR} * (w - x(t)) \\ x(0) &= x_{anf} \end{aligned}$$

4.5 Der Wert von v_n nach dem n -ten Zeitabschnitt Δt

Wir wollen die Wasserhöhe nach 1 Zeitabschnitt, nach 2 Zeitabschnitten, nach 3 Zeitabschnitten, allgemein die Wasserhöhe x_n nach n Zeitabschnitten Δt (Δt ist fest vorgegeben und man kann z.B. für einen Zeitabschnitt Δt eine Sekunde wählen) berechnen. Man definiert v_n als Geschwindigkeit des Wasserpegels (mit der Wasserhöhe x) nach n Zeitabschnitten Δt

$$x_n := x(n * \Delta t)$$

$$v_n := v(n * \Delta t)$$

Für t muß nun $n * \Delta t$ in die Gleichung (K 1) des Regelkreises eingesetzt werden:

$$v(n * \Delta t) = k_{IS} * k_{PR} * (w - x(n * \Delta t))$$

das ergibt:

$$(G 1) \quad v_n = k_{IS} * k_{PR} * (w - x_n)$$

4.6 Der angenäherte Wert der Regelgröße x_n nach dem n -ten Zeitabschnitt Δt

Die Geschwindigkeit v_n läßt sich, siehe (V 1), annähern durch:

$$v_n \approx (x_{n+1} - x_n) / \Delta t$$

eingesetzt in Gleichung (G 1) ergibt:

$$(x_{n+1} - x_n) / \Delta t \approx k_{IS} * k_{PR} * (w - x_n)$$

oder:

Regelkreis:

$(K 2) \quad x_{n+1} \approx x_n + k_{IS} * k_{PR} * \Delta t * (w - x_n) \quad \text{für } n \geq 1$
$(K 3) \quad x_0 = x_{anf}$

Das heißt: aus der Wasserhöhe x_n ($n \geq 1$), läßt sich die Wasserhöhe x_{n+1} berechnen.

Es gilt:

x_0 läßt sich mit (K 3) berechnen,

x_{n+1} ($n \geq 1$) mit (K 2).

kurz:

x_0 mit (K 3)

$x_0 \rightarrow x_1$ mit (K 2)

$x_1 \rightarrow x_2$ mit (K 2)

$x_2 \rightarrow x_3$ mit (K 2)

...

Das heißt man kann die Wasserhöhe nach einem beliebigen Zeitabschnitt t_n berechnen !!!

Aufgaben:

1) Erstellen Sie eine Tabelle (und ein Diagramm), in der x_n für $n = 0, 1, 2, 3, \dots$ und Werten von $\Delta t = 0,01$ $w = 2$ $k_{PR} = 2$ $k_{IS} = 0,5$ $x_0 = x_{anf} = 0$ berechnet und angezeigt wird.

Hinweise zur Lösung dieser Aufgabe und folgender Aufgaben bei Benutzung einer Tabellenkalkulation:

Tragen Sie in einer Spalte die Werte von $n = 0, 1, 2, 3, \dots$ ein.

In die benachbarte Spalte muß die Formel für x_n eingetragen werden.

Beachten Sie, daß bei der Berechnung von x_{n+1} (diese Formel soll z.B. in Feld B20 eingetragen werden) der Wert von x_n benutzt werden (dieser Wert steht dann in Feld B19).

2) Verändern Sie die Werte von w , k_{PR} , k_{IS} usw. und betrachten Sie das dazugehörige Diagramm.

Wählen Sie k_{PP} und k_{PS} so, daß:

2.1) $k_{PR} * k_{IS} > 0$

2.2) $k_{PR} * k_{IS} = 0$

2.3) $k_{PR} * k_{IS} < 0$

und betrachten Sie den Verlauf von x_n .

Bestätigen Sie, daß für

2.4) $k_{PR} * k_{IS} > 0$ der Wert von x_n sich dem Wert $g = w$ nähert (für „große“ n).

2.5) $k_{PR} * k_{IS} = 0$ der Wert von $x_n = x_{anf}$ ist.

2.6) $k_{PR} * k_{IS} < 0$ der Wert von x_n gegen $\pm\infty$ geht.

3) Wählen Sie die Werte von w und x_0 so, daß sich die Regelgröße x_n möglichst schnell der Führungsgröße w nähert und ändern Sie dann (ab dem n , ab dem sich x_n genügend w genähert hat) sprungartig den Wert von w um $+1$.

Wie verändert sich die Regelgröße x (Sprungantwort) ?

5 Rechenbeispiel zu Leitbeispiel 1: idealer P-Regler, I-Regelstrecke mit Störgröße, ohne Totzeit, mit Verzögerung 1. Ordnung

Gegeben ist ein Regelkreis wie aus dem Leitbeispiel 1, allerdings mit einer Störgröße $z(t) \neq 0$.

5.1 Bekannte Größen (Kenngrößen) des Regelkreises

Regler:	$P-T_0$	(P-Glied ohne Totzeit mit Verzögerung 0. Ord.)
Regelstrecke:	$I-T_1$	(I-Glied ohne Totzeit mit Verzögerung 1. Ord.)
Führungsgröße	$w = 2$	
Konstante:	$k_{PR} = 2$	
Konstante:	$k_{IS} = 0,5$	
Anfangswasserhöhe:	$x(0) = x_{anf} = 0$	
Störgröße:	$z(t) = z_k = 1$	

5.2 Die Gleichung des Reglers

Da es sich um einen Proportionalregler ($P-T_0$) handelt, gilt für die Stellgröße y :

Regler:

$$(R3) \quad y(t) = k_{PR} * (w - x(t))$$

5.3 Die Gleichung der Regelstrecke

Da das Schwimmbecken ein Rohr 2 hat, gilt für die Geschwindigkeit des Wasserpegels $v(t)$, zum Zeitpunkt t (siehe (S 1)) (außerdem ist die Anfangswasserhöhe gleich x_{anf}):

Regelstrecke:

$$(S3) \quad \begin{aligned} v(t) &= k_{IS} * y(t) + z(t) \\ x(0) &= x_{anf} \end{aligned}$$

5.4 Der Wert von $v(t)$ nach der Zeit t

Aus den Gleichungen für den Regler und der Regelstrecke folgt die Gleichung für den *Regelkreis*:

$$(K 4) \quad \begin{aligned} v(t) &= k_{IS} * k_{PR} * (w-x(t)) + z(t) \\ x(0) &= x_{anf} \end{aligned}$$

5.5 Der Wert von v_n nach dem n -ten Zeitabschnitt Δt

Wir wollen die Wasserhöhe nach 1 Zeitabschnitt, nach 2 Zeitabschnitten, nach 3 Zeitabschnitten, allgemein die Wasserhöhe x_n nach n Zeitabschnitten Δt (Δt ist fest vorgegeben und man kann z.B. für einen Zeitabschnitt Δt eine Sekunde wählen) berechnen. Man definiert v_n als Geschwindigkeit des Wasserpegels (mit der Wasserhöhe x) nach n Zeitabschnitten Δt

$$x_n := x(n * \Delta t)$$

$$v_n := v(n * \Delta t)$$

Für t muß nun $n * \Delta t$ in die Gleichung (K 4) des Regelkreises eingesetzt werden:

$$v(n * \Delta t) = k_{IS} * k_{PR} * (w-x(n * \Delta t)) + z(n * \Delta t)$$

das ergibt:

$$(G 2) \quad v_n = k_{IS} * k_{PR} * (w-x_n) + z_n$$

5.6 Der angenäherte Wert der Regelgröße x_n nach dem n -ten Zeitabschnitt Δt

Die Geschwindigkeit v_n läßt sich, siehe (V 1), annähern durch:

$$v_n \approx (x_{n+1} - x_n) / \Delta t$$

eingesetzt in Gleichung (G 2) ergibt:

$$(x_{n+1} - x_n) / \Delta t \approx k_{IS} * k_{PR} * (w-x_n) + z_n$$

oder:

Regelkreis:

$(K 5) \quad x_{n+1} \approx x_n + k_{IS} * k_{PR} * \Delta t * (w-x_n) + z_n * \Delta t \quad \text{für}$
$n \geq 1$
$(K 6) \quad x_0 = x_{anf}$

Das heißt: aus der Wasserhöhe x_n ($n \geq 1$), läßt sich die Wasserhöhe x_{n+1} berechnen.

Es gilt:

x_0 läßt sich mit (K 6) berechnen,
 x_{n+1} ($n \geq 1$) mit (K 5).

kurz:

x_0		mit (K 5)
x_0	\rightarrow	x_1 mit (K 5)
x_1	\rightarrow	x_2 mit (K 5)
x_2	\rightarrow	x_3 mit (K 5)
...		

Das heißt man kann die Wasserhöhe nach einem beliebigen Zeitabschnitt t_n berechnen !!!

Aufgaben:

1) Erstellen Sie eine Tabelle (und ein Diagramm), in der x_n für $n = 0, 1, 2, 3, \dots$ und Werten von $\Delta t = 0,01$ $w = 2$ $k_{PR} = 2$ $k_{IS} = 0,5$ $x_0 = x_{anf} = 0$ berechnet und angezeigt wird.

2) Verändern Sie die Werte von w , k_{PR} , k_{IS} usw. und betrachten Sie das dazugehörige Diagramm.

3) Wählen Sie die Werte von w und x_0 so, daß sich die Regelgröße x_n möglichst schnell der Führungsgröße w nähert und ändern Sie dann (ab dem n , ab dem sich x_n genügend w genähert hat) sprunghaft den Wert von w um $+1$.

Wie verändert sich die Regelgröße x (Sprungantwort) ?

4) Wählen Sie die Werte von z und x_0 so, daß sich die Regelgröße x_n möglichst schnell der Führungsgröße w nähert und ändern Sie dann (ab dem n , ab dem sich x_n genügend w genähert hat) sprunghaft den Wert von z um $+1$.

Wie verändert sich die Regelgröße x (Sprungantwort) ?

6 Rechenbeispiel zu Leitbeispiel 1:

idealer I-Regler, I-Regelstrecke ohne Störgröße, ohne Totzeit mit Verzögerung 1. Ordnung

Gegeben sei der Regelkreis aus dem Leitbeispiel 1, allerdings wird der P-Regler aus dem Leitbeispiel 1 durch einen I-Regler ersetzt.

6.1 Bekannte Größen (Kenngrößen) des Regelkreises

Regler:	$I-T_1$	(I-Glied ohne Totzeit mit Verzögerung 1. Ord.)
Regelstrecke:	$I-T_1$	(I-Glied ohne Totzeit mit Verzögerung 1. Ord.)
Führungsgröße	$w = 2$	
Konstante:	$k_{IR} = 2$	
Konstante:	$k_{IS} = 0,5$	
Anfangswasserhöhe:	$x(0) = x_{anf} = 0$	
Anfangsstellgröße	$y(0) = y_{anf} = 0$	
Störgröße:	$z(t) = 0$	Das Schwimmbecken hat kein Rohr 2.

6.2 Die Gleichung des Reglers

Da es sich um einen Integralregler ($I-T_1$) handelt, gilt für Geschwindigkeitsänderung y_v :

Regler:

$$(R4) \quad y_v(t) = k_{IR} * (w - x(t))$$

Durch den Integralregler ist zwar $y_v(0)$ durch die gegebene Anfangswasserhöhe $x(0)$ bestimmt, aber die Anfangsstellgröße $y(0)$ ist noch unbestimmt und muß deswegen durch $y(0) = y_{anf}$ gegeben sein.

6.3 Die Gleichung der Regelstrecke

Da das Schwimmbecken kein Rohr 2 hat (d.h. Störgröße $z(t) = 0$), gilt für die Geschwindigkeit des Wasserpegels $v(t)$ (= Geschwindigkeit des Schwimmers) zum Zeitpunkt $t \geq 0$:
(siehe (S1))

$$(G3) \quad \begin{aligned} v(t) &= k_{IS} * y(t) \\ v(0) &= k_{IS} * y(0) \end{aligned}$$

$$x(0) = x_{anf}, \text{ daraus folgt}$$

(mathematisch exakt formuliert: Die Gleichung (G3) wird auf jeder Seite abgeleitet).

Regelstrecke:

$$(S4) \quad \begin{aligned} a(t) &= k_{IS} * y_v(t) \\ v(0) &= k_{IS} * y(0) \\ x(0) &= x_{anf} \end{aligned}$$

6.4 Der Wert von $a(t)$ nach der Zeit t

Aus den Gleichungen für den Regler und der Regelstrecke folgt die Gleichung für den

Regelkreis:

$$(K 7) \quad a(t) = k_{IS} * k_{IR} * (w-x(t))$$

$$(K 8) \quad v(0) = k_{IS} * y(0)$$

$$(K 9) \quad x(0) = x_{anf}(0)$$

6.5 Der Wert von a_n nach dem n -ten Zeitabschnitt Δt

Wir wollen die Wasserhöhe nach 1 Zeitabschnitt, nach 2 Zeitabschnitten, nach 3 Zeitabschnitten, allgemein die Wasserhöhe x_n nach n Zeitabschnitten Δt (Δt ist fest vorgegeben und man kann z.B. für einen Zeitabschnitt Δt eine Sekunde wählen) berechnen. Man definiert v_n als Geschwindigkeit des Wasserpegels (mit der Wasserhöhe x) nach n Zeitabschnitten Δt und a_n als Beschleunigung des Wasserpegels (mit der Wasserhöhe x) nach n Zeitabschnitten Δt , also:

$$x_n := x(n * \Delta t)$$

$$v_n := v(n * \Delta t)$$

$$a_n := a(n * \Delta t)$$

Für t muß nun $n * \Delta t$ in die Gleichung (K 7) des Regelkreises eingesetzt werden:

$$a(n * \Delta t) = k_{IS} * k_{IR} * (w-x(n * \Delta t))$$

das ergibt:

$$(G 4) \quad a_n = k_{IS} * k_{IR} * (w-x_n)$$

6.6 Der angenäherte Wert der Regelgröße x_n nach dem n-ten Zeitabschnitt Δt

Die Beschleunigung läßt sich, siehe (A 1) annähern durch:

$$a_n \approx (x_{n+2} - 2x_{n+1} + x_n) / \Delta t^2$$

eingesetzt in Gleichung (G 4) ergibt:

$$(x_{n+2} - 2x_{n+1} + x_n) / \Delta t^2 \approx k_{IR} * k_{IS} * (w - x_n)$$

umgeformt:

$$(G 5) \quad x_{n+2} \approx k_{IR} * k_{IS} * \Delta t^2 * (w - x_n) + x_n + 2x_{n+1}$$

Außerdem läßt sich x_1 wie folgt berechnen:

Aus (V 1) folgt:

$$v_0 \approx (x_1 - x_0) / \Delta t$$

daraus folgt:

$$x_1 \approx v_0 * \Delta t + x_0$$

daraus folgt mit (K 8):

$$(G 6) \quad x_1 \approx k_{IS} * y_{anf} * \Delta t + x_0$$

(G 5), (G 6), (K 9) zusammengefaßt ergibt:

Regelkreis:

$$(K 10) \quad x_{n+2} \approx k_{IR} * k_{IS} * \Delta t^2 * (w - x_n) - x_n + 2x_{n+1} \quad \text{für } n \geq 2$$

$$(K 11) \quad x_1 \approx k_{IS} * y_{anf} * \Delta t + x_0$$

$$(K 12) \quad x_0 = x_{anf}$$

Das heißt: aus der Wasserhöhe x_n ($n \geq S$) und der Wasserhöhe x_{n+1} läßt sich die Wasserhöhe x_{n+2} berechnen.

Es gilt:

x_0, x_1 lassen sich mit (K 12), (K 11) berechnen,
 x_{n+1} ($n \geq 2$) mit (K 10).

kurz:

x_0, x_1 mit (K 12), (K 11)
 $x_0, x_1 \rightarrow x_2$ mit (K 10)
 $x_1, x_2 \rightarrow x_3$ mit (K 10)
 $x_2, x_3 \rightarrow x_4$ mit (K 10)
...

Das heißt man kann die Wasserhöhe nach einem beliebigen Zeitabschnitt t_n berechnen !!!

Aufgaben:

1) Erstellen Sie eine Tabelle (und ein Diagramm), in der x_n für $n = 0, 1, 2, 3, \dots$ und Werten von $\Delta t = 0,01$ $w = 2$ $k_{IR} = 2$ $k_{IS} = 0,5$ $x_0 = x_{anf} = 0$ $y_0 = y_{anf} = 0$ berechnet und angezeigt wird.

2) Verändern Sie die Werte von w, k_{IR}, k_{IS} usw. bei gegebenem $x_0 = 0, y_0 = 0$ und betrachten Sie das dazugehörige Diagramm.

Wählen Sie k_{IR} und k_{IS} so, daß:

2.1) $k_{IR} * k_{IS} > 0$

2.2) $k_{IR} * k_{IS} < 0$

und betrachten Sie den Verlauf von x_n .

Bestätigen Sie, daß für ($t = n * \Delta t$)

2.3) $k_{IR} * k_{IS} > 0$ gilt:

$$x(t) = w * (1 - \cos(\sqrt{k_{IR} * k_{IS}} * t))$$

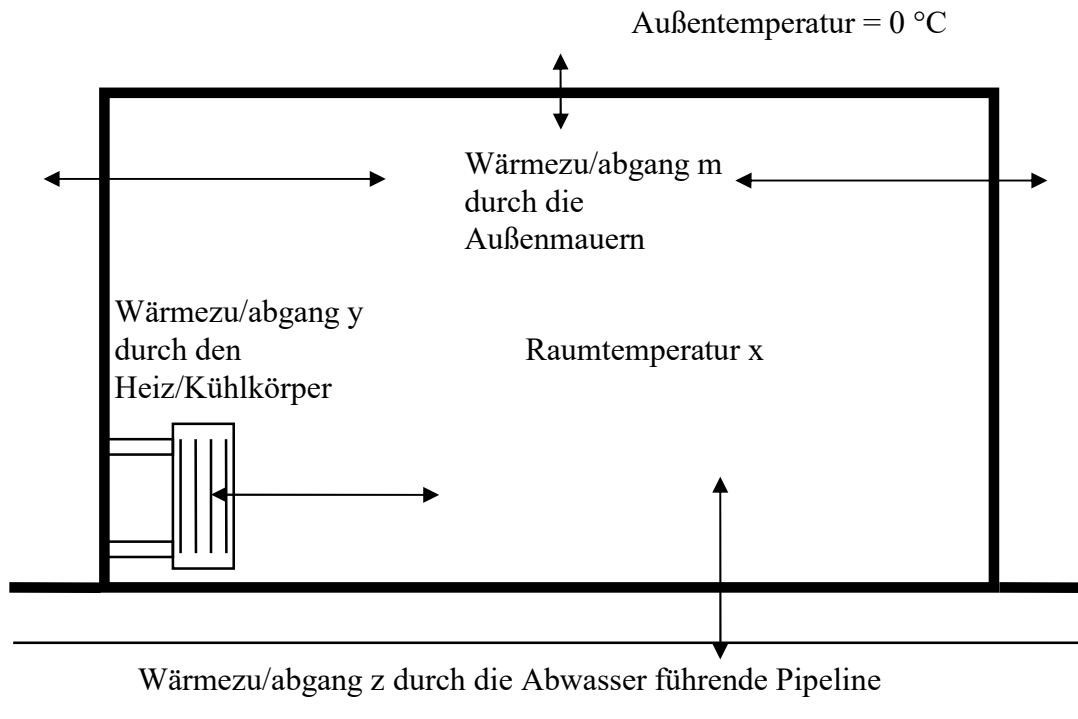
2.4) $k_{IR} * k_{IS} < 0$ gilt:

$$x(t) = w * (1 - 0,5 e^{\sqrt{-k_{IR} * k_{IS}} * t} - 0,5 e^{-\sqrt{-k_{IR} * k_{IS}} * t})$$

Bemerkung:

Die Regelgröße x_n nähert sich also nicht (für „große“ n) einem konstanten Wert. Das heißt, der Regelkreis ist „instabil“.

7 Leitbeispiel 2 eines Regelkreises: Raum mit Thermostat (Regler)



Abkürzungen:

- y: Stellgröße (grd / s) = durch den Heiz/kühlkörper verursachte Temperaturzu/abnahme (pro Zeiteinheit) des Raumes
- x: Regelgröße (°C) = Raumtemperatur
- v: zeitliche Änderung der Raumtemperatur (grd / s)
- z: Störgröße (grd / s) = durch die Pipeline verursachte Temperaturzu/abnahme (pro Zeiteinheit) des Raumes
- w: Führungsgröße (°C)
- m: Über die Außenmauern zugeführte Temperaturzu/abnahme (pro Zeiteinheit) (grd / s).
Wenn die Raumtemperatur x kleiner 0 °C ist, wird dem Raum Wärme zugeführt,
wenn die Raumtemperatur x größer 0 °C ist, wird dem Raum Wärme entzogen.

7.1 Beschreibung

Ein nur aus einem Raum gebautes Haus wurde in einer Gegend aufgestellt, in der eine konstante Außentemperatur von 0 °C herrscht.

Das Haus wurde über einer Pipeline gebaut, in der Abwasser mit einer bestimmten Temperatur fließt und dadurch dem Raum Wärme entzieht (falls die Raumtemperatur größer als die Temperatur des Abwassers ist) oder zuführt (falls die Raumtemperatur kleiner als die Temperatur des Abwassers ist).

Die Raumtemperatur x dieses Zimmers soll mit einem Thermostat (Proportionalregler (P- T_0))

geregelt werden:

Bei der Regelung der Raumtemperatur x durch den Regler (Thermostat) gibt der Heiz/Kühlkörper Wärme an den Raum ab, falls die Raumtemperatur x kleiner als die Führungsgröße w ist. (Der Heiz/Kühlkörper wirkt wie eine Heizung).

Der Heiz/Kühlkörper entzieht dem Raum Wärme, falls die Raumtemperatur größer als die Führungsgröße w ist. (Der Heiz/Kühlkörper wirkt wie ein Kühlschrank).

Die gesamte Wärmezulu/abnahme (pro Zeiteinheit) v des Raumes ist die Summe aus der Wärmezulu/abnahme (pro Zeiteinheit) y durch den Heiz/kühlkörper, der Wärmezulu/abnahme (pro Zeiteinheit) m durch die Außenmauern des Raumes und der der Wärmezulu/abnahme (pro Zeiteinheit) z (Störgröße) durch die Pipeline.

Die Wärmezulu/abnahme wird gemessen als Temperaturzu/abnahme pro Zeiteinheit, also in Grad pro Sekunde (grad / s).

Die gesamte Temperaturzu/abnahme (pro Zeiteinheit) v des Raumes ist also die Summe aus der Temperaturzu/abnahme (pro Zeiteinheit) y durch den Heiz/Kühlkörper **und** der Temperaturzu/abnahme (pro Zeiteinheit) m durch die Außenmauern des Raums **und** der Temperaturzu/abnahme (pro Zeiteinheit) z durch die Pipeline.

Aus Erfahrung weiß man, daß die Temperaturzu/abnahme m (pro Zeiteinheit) über die Außenmauern proportional der Raumtemperatur x ist.

Beispiel:

(Annahme: Der Raum verliert nur über die Außenmauern Wärme).

Wenn bei 100 °C Raumtemperatur die Raumtemperatur um $0,002\text{ grad / s}$ (also $7,2\text{ grad pro Stunde}$) abnimmt, dann nimmt sie bei 50 °C nur um $0,001\text{ grad / s}$ (also $3,6\text{ grad pro Stunde}$) ab).

7.2 Die Gleichung des Reglers

Da es sich um einen Proportionalregler (P- T_0) handelt, gilt für die Stellgröße y :

Regler:

$$(R\ 5) \quad y(t) = k_{PR} * (w - x(t))$$

Beispiel (mit Dimensionen):

Annahme: $w=20\text{ °C}$, $k_{PR}=0,0001/s$, $x=10\text{ °C}$

dann gilt für die Wärmezulu/abnahme y durch den Heiz/Kühlkörper:

$$y = 0,0001/s * (20\text{ °C} - 10\text{ °C}) = 0,0001 * 10\text{ grad/s} = 0,001\text{ grad/s}$$

7.3 Die Gleichung der Regelstrecke

Die Temperaturzu/abnahme (pro Zeiteinheit) v des Raums ist die Summe aus der Temperaturzu/abnahme (pro Zeiteinheit) y des Heiz/kühlkörpers und der Temperaturzu/abnahme (pro Zeiteinheit) m über die Außenmauern und der Temperaturzu/abnahme (pro Zeiteinheit) z durch die Pipeline.

Außerdem ist die Temperaturzu/abnahme (pro Zeiteinheit) m über die Außenmauern proportional der Raumtemperatur x (Proportionalitätskonstante k_{PS}).

Außerdem ist die Anfangsraumtemperatur gleich x_{anf} .

Regelstrecke:

$$(S5) \quad \begin{aligned} v(t) &= k_{PS} * x(t) + y(t) + z(t) \\ x(0) &= x_{anf} \end{aligned}$$

Bemerkung:

$v(t)$ ist die Temperaturzu/abnahme des Raums und kann auch als Geschwindigkeit aufgefaßt werden, mit der die Raumtemperatur ansteigt oder abfällt. Nur wird sie nicht in Meter pro Sekunde gemessen, sondern in Grad pro Sekunde.

Mißt man die Raumtemperatur $x_n := x(n * \Delta t)$ nach n Zeitabschnitten und die Raumtemperatur $x_{n+1} := x((n+1) * \Delta t)$ nach $n+1$ Zeitabschnitten, dann läßt sich die Temperaturzu/abnahme (pro Zeiteinheit) v_n ähnlich wie bei (V 1) annähern durch:

$$v_n \approx (x_{n+1} - x_n) / \Delta t$$

8 Rechenbeispiel zu Leitbeispiel 2: idealer P-Regler, P-Regelstrecke ohne Störgröße, ohne Totzeit, mit Verzögerung 1. Ordnung

Gegeben ist ein Regelkreis wie aus dem Leitbeispiel 2.

8.1 Bekannte Größen (Kenngrößen) des Regelkreises

Regler:	P-T ₀	(P-Glied ohne Totzeit mit Verzögerung 0. Ord.)
Regelstrecke:	P-T ₁	(P-Glied ohne Totzeit mit Verzögerung 1. Ord.)
Führungsgröße	w = 2	
Konstante:	k _{PR} = 2	
Konstante:	k _{PS} = 0,5	
Anfangswasserhöhe:	x(0) = x _{anf} = 0	
Störgröße:	z(t) = 0	(Die Pipeline wurde abgebaut)

8.2 Die Gleichung des Reglers

Da es sich um einen Proportionalregler (P-T₀) handelt, gilt für die Stellgröße y:

Regler:

$$(R\ 6) \quad y(t) = k_{PR} * (w - x(t))$$

8.3 Die Gleichung der Regelstrecke

Da die Pipeline nicht mehr existiert, (d.h. Störgröße z(t) = 0), gilt für die Temperaturzu/abnahme (pro Zeiteinheit) v(t) des Raums zum Zeitpunkt t (siehe (S 5)) (außerdem ist die Anfangsraumtemperatur gleich x_{anf}):

Regelstrecke:

$$(S\ 6) \quad \begin{aligned} v(t) &= k_{PS} * x(t) + y(t) \\ x(0) &= x_{anf} \end{aligned}$$

8.4 Der Wert von $v(t)$ nach der Zeit t

Aus den Gleichung für den Regler und der Regelstrecke folgt die Gleichung für den *Regelkreis*:

$$(K 13) \quad \begin{aligned} v(t) &= (k_{PS} - k_{PR}) * x(t) + k_{PR} * w \\ x(0) &= x_{anf} \end{aligned}$$

8.5 Der Wert von v_n nach dem n -ten Zeitabschnitt Δt

Wir wollen die Temperatur nach 1 Zeitabschnitt, nach 2 Zeitabschnitten, nach 3 Zeitabschnitten, allgemein die Temperatur x_n nach n Zeitabschnitten Δt (Δt ist fest vorgegeben und man kann z.B. für einen Zeitabschnitt Δt eine Sekunde wählen) berechnen.

Man definiert v_n als Temperaturzu/abnahme des Raums nach n Zeitabschnitten Δt

$$x_n := x(n * \Delta t)$$

$$v_n := v(n * \Delta t)$$

Für t muß nun $n * \Delta t$ in die Gleichung (K 13) des Regelkreises eingesetzt werden:

$$v(n * \Delta t) = (k_{PS} - k_{PR}) * x(n * \Delta t) + k_{PR} * w$$

das ergibt:

$$(G 7) \quad v_n = (k_{PS} - k_{PR}) * x_n + k_{PR} * w$$

8.6 Der angenäherte Wert der Regelgröße x_n nach dem n -ten Zeitabschnitt Δt

Die Geschwindigkeit v_n (Raumtemperaturänderung) läßt sich, ähnlich wie bei (V 1), annähern durch:

$$v_n \approx (x_{n+1} - x_n) / \Delta t$$

eingesetzt in Gleichung (G 7) ergibt:

$$(x_{n+1} - x_n) / \Delta t \approx (k_{PS} - k_{PR}) * x_n + k_{PR} * w$$

oder:

Regelkreis:

$(K 14) \quad x_{n+1} \approx x_n + (k_{PS} - k_{PR}) * \Delta t * x_n + k_{PR} * w * \Delta t \quad \text{für } n \geq 1$ $(K 15) \quad x_0 = x_{anf}$

Das heißt: aus der Temperatur x_n ($n \geq 1$), läßt sich die Temperatur x_{n+1} berechnen.

Es gilt:

x_0 läßt sich mit (K 15) berechnen,
 x_{n+1} ($n \geq 1$) mit (K 14).

kurz:

x_0 mit (K 14)
 $x_0 \rightarrow x_1$ mit (K 14)
 $x_1 \rightarrow x_2$ mit (K 14)
 $x_2 \rightarrow x_3$ mit (K 14)
...

Das heißt man kann die Raumtemperatur nach einem beliebigen Zeitabschnitt t_n berechnen
!!!

Aufgaben:

1) Erstellen Sie eine Tabelle (und ein Diagramm), in der x_n für $n = 0, 1, 2, 3, \dots$ und Werten von $\Delta t = 0,01$ $w = 2$ $k_{PR} = 2$ $k_{PS} = 0,5$ $x_0 = x_{anf} = 0$ berechnet und angezeigt wird.

2) Verändern Sie die Werte von w , k_{PR} , k_{PS} usw. und betrachten Sie das dazugehörige Diagramm.

Wählen Sie k_{PR} und k_{PS} so, daß:

2.1) $k_{PS} - k_{PR} < 0$

2.2) $k_{PS} - k_{PR} > 0$

und betrachten Sie den Verlauf von x_n .

Bestätigen Sie, daß für

2.3) $k_{PS} - k_{PR} < 0$ der Wert von x_n sich dem Wert $g = \frac{K_{PR} \cdot w}{K_{PR} - K_{PS}}$ nähert (für „große“ n).

2.4) $k_{PS} - k_{PR} > 0$ der Wert von x_n gegen $\pm\infty$ geht.

3) Wählen Sie die Werte von w und x_0 so, daß sich die Regelgröße x_n möglichst schnell der Führungsgröße w nähert und ändern Sie dann (ab dem n , ab dem sich x_n genügend w genähert hat) sprunghaft den Wert von w um $+1$.

Wie verändert sich die Regelgröße x (Sprungantwort) ?

9 Rechenbeispiel zu Leitbeispiel 2: idealer P-Regler, P-Regelstrecke mit Störgröße, ohne Totzeit, mit Verzögerung 1. Ordnung

Gegeben ist ein Regelkreis wie aus dem Leitbeispiel 2, allerdings mit Störgröße $z(t) \neq 0$.

9.1 Bekannte Größen (Kenngrößen) des Regelkreises

Regler:	$P-T_0$	(P-Glied ohne Totzeit mit Verzögerung 0. Ord.)
Regelstrecke:	$P-T_1$	(P-Glied ohne Totzeit mit Verzögerung 1. Ord.)
Führungsgröße	$w = 2$	
Konstante:	$k_{PR} = 2$	
Konstante:	$k_{PS} = 0,5$	
Anfangswasserhöhe:	$x(0) = x_{anf} = 0$	
Störgröße:	$z(t) = z_k = 1$	

9.2 Die Gleichung des Reglers

Da es sich um einen Proportionalregler ($P-T_0$) handelt, gilt für die Stellgröße y :

Regler:

$$(R7) \quad y(t) = k_{PR} * (w - x(t))$$

9.3 Die Gleichung der Regelstrecke

Es gilt für die Temperaturzu/abnahme (pro Zeiteinheit) $v(t)$ des Raums zum Zeitpunkt t (siehe (S 5)) (außerdem ist die Anfangsraumtemperatur gleich x_{anf}):

Regelstrecke:

$$(S7) \quad \begin{aligned} v(t) &= k_{PS} * x(t) + y(t) + z(t) \\ x(0) &= x_{anf} \end{aligned}$$

9.4 Der Wert von $v(t)$ nach der Zeit t

Aus den Gleichung für den Regler und der Regelstrecke folgt die Gleichung für den *Regelkreis*:

$$(K 16) \quad \begin{aligned} v(t) &= (k_{PS} - k_{PR}) * x(t) + k_{PR} * w + z(t) \\ x(0) &= x_{anf} \end{aligned}$$

9.5 Der Wert von v_n nach dem n -ten Zeitabschnitt Δt

Wir wollen die Temperatur nach 1 Zeitabschnitt, nach 2 Zeitabschnitten, nach 3 Zeitabschnitten, allgemein die Temperatur x_n nach n Zeitabschnitten Δt (Δt ist fest vorgegeben und man kann z.B. für einen Zeitabschnitt Δt eine Sekunde wählen) berechnen.

Man definiert v_n als Temperaturzu/abnahme des Raums nach n Zeitabschnitten Δt

$$x_n := x(n * \Delta t)$$

$$v_n := v(n * \Delta t)$$

Für t muß nun $n * \Delta t$ in die Gleichung (K 16) des Regelkreises eingesetzt werden:

$$v(n * \Delta t) = (k_{PS} - k_{PR}) * x(n * \Delta t) + k_{PR} * w + z(n * \Delta t)$$

das ergibt:

$$(G 8) \quad v_n = (k_{PS} - k_{PR}) * x_n + k_{PR} * w + z_n$$

9.6 Der angenäherte Wert der Regelgröße x_n nach dem n -ten Zeitabschnitt Δt

Die Geschwindigkeit v_n (Raumtemperaturänderung) läßt sich, ähnlich wie bei (V 1), annähern durch:

$$v_n \approx (x_{n+1} - x_n) / \Delta t$$

eingesetzt in Gleichung (G 8) ergibt:

$$(x_{n+1} - x_n) / \Delta t \approx (k_{PS} - k_{PR}) * x_n + k_{PR} * w + z_n$$

oder:

Regelkreis:

$(K 17) \quad x_{n+1} \approx x_n + (k_{PS} - k_{PR}) * \Delta t * x_n + k_{PR} * w * \Delta t + z_n * \Delta t \quad \text{für } n \geq 1$ $(K 18) \quad x_0 = x_{anf}$
--

Das heißt: aus der Temperatur x_n ($n \geq 1$), läßt sich die Temperatur x_{n+1} berechnen.

Es gilt:

x_0 läßt sich mit (K 18) berechnen,
 x_{n+1} ($n \geq 1$) mit (K 17).

kurz:

x_0 mit (K 18)
 $x_0 \rightarrow x_1$ mit (K 17)
 $x_1 \rightarrow x_2$ mit (K 17)
 $x_2 \rightarrow x_3$ mit (K 17)
...

Das heißt man kann die Raumtemperatur nach einem beliebigen Zeitabschnitt t_n berechnen
!!!

Aufgaben:

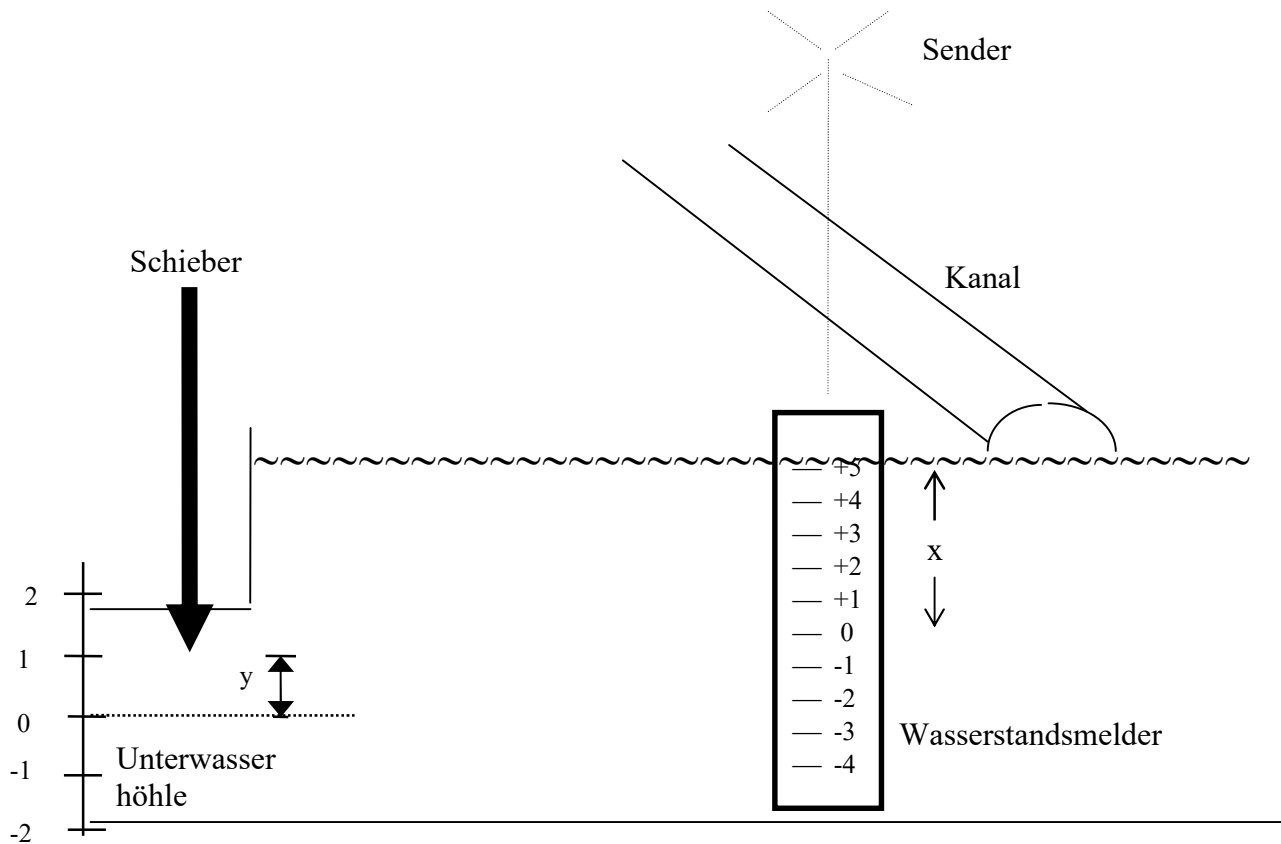
1) Erstellen Sie eine Tabelle (und ein Diagramm), in der x_n für $n = 0, 1, 2, 3, \dots$ und Werten von $\Delta t = 0,01$ $w = 2$ $k_{PR} = 2$ $k_{PS} = 0,5$ $x_0 = x_{anf} = 0$ $z(t) = 1$ berechnet und angezeigt wird.

2) Verändern Sie die Werte von w , k_{PR} , k_{PS} usw. und betrachten Sie das dazugehörige Diagramm.

3) Wählen Sie die Werte von w und x_0 so, daß sich die Regelgröße x_n möglichst schnell der Führungsgröße w nähert und ändern Sie dann (ab dem n , ab dem sich x_n genügend w genähert hat) sprunghaft den Wert von w um $+1$.
Wie verändert sich die Regelgröße x (Sprungantwort) ?

4) Wählen Sie die Werte von z und x_0 so, daß sich die Regelgröße x_n möglichst schnell der Führungsgröße w nähert und ändern Sie dann (ab dem n , ab dem sich x_n genügend w genähert hat) sprunghaft den Wert von z um $+1$.
Wie verändert sich die Regelgröße x (Sprungantwort) ?

10 Leitbeispiel 3 eines Regelkreises: Dorf mit Regler



Abkürzungen:

- y: Stellgröße (m) = Abstand der Schieberspitze von seiner Normallage
- yv: Geschwindigkeit (m/s) des Schiebers
- x: Regelgröße (m) = Wasserhöhe des Wasserpegels am Wasserstandsmelder des Dorfs
- v: Geschwindigkeit (m/s) des Wasserpegels am Wasserstandsmelder.
- z: Störgröße (m) = Wasserschichtshöhe vom Kanal.
- zv: Geschwindigkeit (m/s) der Wasserschichtshöhe (in senkrechter Richtung)
- w: Führungsgröße (m), den der Fluß am Wasserstandsmelder annehmen soll.
- T_t : Totzeit (s), d.h. die Zeit die das Wasser vom Ausgang der Unterwasserhöhle bis zum Wasserstandsmelder braucht.

10.1 Beschreibung

In einem Dorf soll die Wasserhöhe x des durchquerenden Flußes geregelt werden. Das Dorf befindet sich 30 km von einer Unterwasserhöhle entfernt, aus der der Fluß entspringt und talwärts zum Dorf fließt. Der Fluß quillt mit hohem Druck aus der Unterwasserhöhle, an der ein Schieber angebracht ist, mit dem die Wasserhöhe der der Unterwasserhöhle entspringenden Wassermenge gesteuert werden kann.

In dem Dorf befindet sich im Fluß ein Wasserstandsmelder (z.B. Pfahl), an dem die Wasserhöhe x laufend elektronisch abgelesen wird und über Funk zur Unterwasserhöhle an den Schieber geschickt wird und dieser eine bestimmte Schieberhöhe y erzeugt. Diese Schieberhöhe y veranlaßt, daß sich die zugehörige Wassermenge mit der dazugehörigen Wasserhöhe h_1 in Richtung des Dorfes bewegt. Dort, in dem 30 km weit entfernten Dorf kommt die Wassermenge (mit der Wasserhöhe h_1) allerdings erst nach einer zeitlichen Verzögerung von zum Beispiel $T_t = 1$ Stunde (Totzeit) an

Steigt die Wasserhöhe im Fluß, dann bewegt sich der Schieber nach unten, das heißt die Schieberhöhe y wird kleiner und nach $T_t = 1$ Stunde wird die Wasserhöhe der der Unterwasserhöhle entspringenden Wassermenge kleiner.

Sinkt die Wasserhöhe im Fluß, dann bewegt sich der Schieber nach oben, das heißt die Schieberhöhe y wird größer und nach $T_t = 1$ Stunde wird die Wasserhöhe der der Unterwasserhöhle entspringenden Wassermenge größer.

10.1.1 Kanal

Im Dorf mündet beim Wasserstandsmelder noch ein Kanal in den Fluß. Von diesem Kanal aus fließt eine Wassermenge in den Fluß zu- oder ab und erhöht oder verringert die Wasserhöhe des Wasserpegels um die Wasserhöhe der Wasserschicht (kurz: Wasserschichtshöhe) der Wassermenge, die der Kanal zuführt oder abführt.

Anschaulich:

Wäre das zufließende Wasser rotgefärbt und sehr zäh, dann würde diese rote, zähe Schicht auf dem Wasser des Kanals aufliegen und die Gesamthöhe der Wasserhöhe um die Dicke dieser roten Wasserschicht erhöhen.

10.1.2 Die Wasserhöhe x

Die Wasserhöhe x am Wasserstandsmelder ist die Summe aus der Wasserhöhe der Wassermenge aus der Unterwasserhöhle und der Wasserschichtshöhe vom Kanal.

10.1.3 Regelungstechnische Begriffe in diesem Regelkreis

Die Regelgröße x (in m) ist die Wasserhöhe des Wasserpegels am Wasserstandsmelder.
Die Stellgröße y (in m) ist der Abstand der Schieberspitze von seiner „Normallage“ (in der Normallage ist die Wasserhöhe h_1 am Höhleneingang gleich 0). In der Zeichnung ist die Normallage gestrichelt gekennzeichnet.

y_v ist die Geschwindigkeit des Schiebers.

Die Störgröße z (in m) ist die (vom Kanal kommende oder abgehende) Wasserschichtshöhe, die die Wasserhöhe am Wasserstandsmelder erhöht oder erniedrigt.

z_v ist die Geschwindigkeit der vom Kanal kommenden Wasserschicht in senkrechter Richtung.

Wenn die Wasserschicht dicker wird (anwächst), ist die Geschwindigkeit positiv, wenn sie dünner wird (abnimmt), negativ.

Die Führungsgröße w (in m) ist die Wasserhöhe, die der Fluß im Dorf annehmen soll und die am Schieber bei der Unterwasserhöhle eingestellt werden kann.

10.1.4 Die Gleichung des Reglers

Der Regler ist ein Proportionalregler (ohne Totzeit), das heißt die Abweichung $x_d = w - x$ von der Führungsgröße w ist proportional der Stellgröße y .
mathematisch:

Regler:

$$(R 8) \quad y = k_{PR} (w - x(t))$$

Beispiel (mit Dimensionen):

Annahme: $w=4\text{m}$, $k_{PR}=0,5$, $x=1\text{m}$

dann gilt für die Stellgröße y :

$$y = 0,5 * (4\text{m} - 1\text{m}) = 0,5 * 3\text{m} = 1,5\text{m}$$

10.1.5 Die Gleichung der Regelstrecke

Nachdem der Regler in der Unterwasserhöhle eingebaut wurde, hängt die Wasserhöhe x am Wasserstandsmelder von der Schieberhöhe y ab.

Da die von der Schieberhöhe y zum Zeitpunkt $t = 0$ verursachte Wassermenge erst nach der Zeit $t = T_t$ am Wasserstandsmelder angekommen, hängt die Wasserhöhe $x(t)$ also nur während der Zeit $t \geq T_t$ von der Schieberhöhe y ab. (Angenommen, nach dem Einbau des Reglers wird das Wasser zwischen der Unterwasserhöhle und dem Wasserstandsmelder grün gefärbt, dann hat der Regler keinen Einfluß mehr auf das grün gefärbte Wasser).

Deswegen müssen zwei Fälle unterschieden werden:

10.1.5.1 Fall: $t \geq T_t$:

In diesen Fall gilt dann folgendes:

Die Wasserhöhe $x(t)$ am Wasserstandsmelder im Dorf ist die Summe aus der Wasserhöhe $h(t)$ der **am Wasserstandsmelder** ankommenden Wassermenge aus der Unterwasserhöhle und der Wasserschichtshöhe $z(t)$ der Wassermenge aus dem Kanal (Störgröße):

mathematisch:

$$(G 9) \quad x(t) = h(t) + z(t)$$

Empirisch (durch praktische Messungen) hat man festgestellt, daß die Wasserhöhe $h_1(t)$ der **am Ausgang** der Unterwasserhöhle ankommenden Wassermenge aus der Wasserhöhle proportional zur Schieberhöhe y ist:

mathematisch:

$$(G 10) \quad h_1(t) = k_{PS} y(t)$$

Die Wasserhöhe der Wassermenge aus der Unterwasserhöhle **am Wassermelder** zum Zeitpunkt t ist gleich der Wasserhöhe der Wassermenge aus der Unterwasserhöhle **am Ausgang** der Unterwasserhöhle zum Zeitpunkt $t - T_t$, da sich die Wassermenge aus der Unterwasserhöhle mit der zeitlichen Verzögerung von $T_t = 1$ Stunde in Richtung des Dorfs (zum Wasserstandsmelder) bewegt.

mathematisch:

$$(G 11) \quad h(t) = h_1(t - T_t)$$

aus (G 10) folgt:

$$(G 12) \quad h_1(t - T_t) = k_{PS} y(t - T_t)$$

aus (G 11), (G 12) folgt:

$$(G 13) \quad h(t) = k_{PS} y(t - T_t)$$

aus (G 9), (G 13) folgt:

$$x(t) = k_{PS} y(t - T_t) + z(t) \quad \text{für } t \geq T_t$$

10.1.5.2 Fall: $t < T_t$

Nach dem Einbau des Reglers fließt wegen der Totzeit immer noch unregelt Wasser (das sich zwischen dem Ausgang der Unterwasserhöhle und dem Wasserstandsmelder befindet) in Richtung des Wasserstandsmelders.

Für dieses Wasser, das für die Zeit $t < T_t$ in Richtung des Wasserstandsmelders fließt, ist es so, als ob der Regler gar nicht da wäre.

Deshalb ergibt sich für die Zeit $t < T_t$ die Wasserhöhe $x(t)$ im Dorf aus der Wasserschichtshöhe der Wassermenge vom Kanal und der Anfangswasserhöhe $x_{anf}(t)$ der Wassermenge die noch unregelt von der Unterwasserhöhle kommt.

$$x(t) = x_{anf}(t) + z(t) \quad \text{für } t < T_t$$

zusammengefaßt:

Regelstrecke:

$$(S 8) \quad \begin{array}{ll} x(t) = k_{PS} y(t - T_t) + z(t) & \text{für } t \geq T_t \\ x(t) = x_{anf}(t) + z(t) & \text{für } t < T_t \end{array}$$

11 Rechenbeispiel zu Leitbeispiel 3:

idealer P-Regler, P-Regelstrecke ohne Störgröße, mit Totzeit, mit Verzögerung 0. Ordnung.

Gegeben sei ein Regelkreis wie aus dem Leitbeispiel 3, allerdings mit Störgröße $z(t) = 0$.

11.1 Bekannte Größen (Kenngrößen) des Regelkreises

Regler:	P- T_0	(P-Glied ohne Totzeit mit Verzögerung 0. Ord.)
Regelstrecke:	P- T_t - T_0	(P-Glied mit Totzeit mit Verzögerung 0. Ord.)
Führungsgröße	$w = 2$	
Konstante:	$k_{PR} = 2$	
Konstante:	$k_{PS} = 0,5$	
Totzeit:	$T_t = 1$	
Anfangswasserhöhe:	$x(t) = x_{anf}(t) = x_k = 3$	für $0 \leq t < T_t$
Störgröße:	$z(t) = 0$	Der Kanal fehlt (oder ist dicht)

11.2 Die Gleichung des Reglers

Der Regler ist wie im Leitbeispiel 3 ein Proportionalregler (ohne Totzeit), das heißt die Abweichung $x_d = w - x$ von der Führungsgröße w ist proportional der Stellgröße y :

Regler:

$$(R 9) \quad y(t) = k_{PR} (w - x(t))$$

11.3 Die Gleichung der Regelstrecke

Die Regelstrecke ist wie im Leitbeispiel 3 ein Proportional-Glied, allerdings ohne eine auf die Regelstrecke einwirkende Störgröße z (d.h Störgröße $z(t) = 0$), (siehe (S 8)):

Regelstrecke:

$$(S 9) \quad \begin{aligned} x(t) &= k_{PS} y(t - T_t) & t &\geq T_t \\ x(t) &= x_{anf}(t) & t &< T_t \end{aligned}$$

11.4 Der Wert der Regelgröße $x(t)$ nach der Zeit t

Aus den Gleichungen für den Regler und der Regelstrecke folgt die Gleichung für den

Regelkreis:

$$(K 19) \quad \begin{aligned} x(t) &= k_{PS} k_{PR} (w - x(t - T_t)) && \text{für } t \geq T_t \\ x(t) &= x_{anf}(t) && \text{für } t < T_t \end{aligned}$$

11.5 Der Wert der Regelgröße x_n nach dem n -ten Zeitabschnitt T_t

Aus weiter unten ersichtlichen Gründen definiert man:

- 0. Zeitabschnitt: Zeit nach 0 Zeitabschnitten und vor 1 Zeitabschnitt ($0 \leq t < T_t$)
- 1. Zeitabschnitt: Zeit nach 1 Zeitabschnitt und vor 2 Zeitabschnitten ($1 * T_t \leq t < 2 * T_t$)
- 2. Zeitabschnitt: Zeit nach 2 Zeitabschnitten und vor 3 Zeitabschnitten ($2 * T_t \leq t < 3 * T_t$)
-
- n . Zeitabschnitt: Zeit nach n Zeitabschnitten und vor $n+1$ Zeitabschnitten
($n * T_t \leq t < (n+1) * T_t$)

Nach Voraussetzung ist der Wert von $x(t)$ während des **nullten** Zeitabschnitts ($0 \leq t < T_t$) gleich einer Konstanten ($=x_k$), ab jetzt x_0 genannt.

Die Regelgröße x während des **ersten** Zeitabschnitts ($T_t \leq t < 2T_t$) ist laut Formel, siehe (K 19) nur abhängig von der Regelgröße x während des nullten Zeitabschnitts ($0 \leq t < T_t$). Da diese aber konstant ist, ist die Regelgröße während des ersten Zeitabschnitts auch eine Konstante, ab jetzt x_1 genannt.

Die Regelgröße x während des **zweiten** Zeitabschnitts ($T_t \leq t < 2T_t$) ist laut Formel, siehe (K 19), nur abhängig von der Regelgröße x während des ersten Zeitabschnitts ($0 \leq t < T_t$). Da diese aber konstant ist, ist die Regelgröße während des zweiten Zeitabschnitts auch eine Konstante, ab jetzt x_2 genannt, usw.

Daraus folgt:

Die Regelgröße x während des **n -ten** Zeitabschnitts ($n * T_t \leq t < (n+1) * T_t$) ist eine Konstante, x_n genannt.

Für die Regelgröße x_n gilt: (für $n * T_t \leq t < (n+1) * T_t$)

$$x_n = x(t) = k_{PS} k_{PR} (w - x(t - T_t)) = k_{PS} k_{PR} (w - x_{n-1}), \text{ also:}$$

Regelkreis:

$(K 20) \quad x_n = k_{PS} k_{PR} (w - x_{n-1}) \quad \text{für } n \geq 1$ $(K 21) \quad x_0 = x_k$
--

Das heißt: aus der Wasserhöhe x_n ($n \geq 1$), läßt sich die Wasserhöhe x_{n+1} berechnen.

Es gilt:

x_0 läßt sich mit (K 21) berechnen,
 x_n ($n \geq 1$) mit (K 20).

kurz:

x_0		mit (K 21)
x_0	\rightarrow	x_1 mit (K 20)
x_1	\rightarrow	x_2 mit (K 20)
x_2	\rightarrow	x_3 mit (K 20)
...		

Das heißt man kann die Wasserhöhe nach einem beliebigen Zeitabschnitt t_n berechnen !!!

Aufgaben:

1) Erstellen Sie eine Tabelle (und ein Diagramm), in der x_n für $n = 0, 1, 2, 3, \dots$ und Werten von $\Delta t = 0,1$ $w = 2$ $k_{PR} = 1$ $k_{PS} = 0,5$ $T_t = 1$ $x_0 = 3$ berechnet und angezeigt wird.

2) Verändern Sie die Werte von w , k_{PR} , k_{PS} usw. und betrachten Sie das dazugehörige Diagramm.

Wählen Sie k_{PR} und k_{PS} so, daß:

2.1) $|k_{PR} \cdot k_{PS}| < 1$

2.2) $k_{PR} \cdot k_{PS} = 1$

2.4) $|k_{PR} \cdot k_{PS}| > 1$

und betrachten Sie den Verlauf von x_n .

Bestätigen Sie, daß für

2.4) $|k_{PR} \cdot k_{PS}| < 1$ x_n sich dem Wert $g = \frac{k_{PR} \cdot k_{PS} \cdot w}{k_{PR} \cdot k_{PS} + 1}$ nähert (für „große“ n)

2.5) $k_{PR} \cdot k_{PS} = 1$ der Regelkreis mit konstanter Amplitude schwingt.

2.7) $|k_{PR} \cdot k_{PS}| > 1$ x_n mit größer werdender Amplitude schwingt oder x_n unbegrenzt wächst (oder fällt).

12 Rechenbeispiel zu Leitbeispiel 3: idealer P-Regler, P-Regelstrecke mit Störgröße, mit Totzeit mit Verzögerung 0. Ordnung

Gegeben sei ein Regelkreis wie aus dem Leitbeispiel 3, allerdings mit einer Störgröße $z(t) \neq 0$.

12.1 Bekannte Größen (Kenngrößen) des Regelkreises

Regler:	P- T_0	(P-Glied ohne Totzeit mit Verzögerung 0. Ord.)
Regelstrecke:	P- $T_t - T_0$	(P-Glied mit Totzeit mit Verzögerung 0. Ord.)
Führungsgröße	$w = 2$	
Konstante:	$k_{PR} = 1$	
Konstante:	$k_{PS} = 0,5$	
Totzeit:	$T_t = 1$	
Anfangswasserhöhe:	$x(t) = x_{anf}(t) = 3$	für $0 \leq t < T_t$
Störgröße:	$z(t) = \sin t$	

12.2 Die Gleichung des Reglers

Der Regler ist wie im Leitbeispiel 3 ein Proportionalregler (ohne Totzeit), das heißt die Abweichung $x_d = w - x$ von der Führungsgröße w ist proportional der Stellgröße y :

Regler:

$$(R 10) \quad y(t) = k_{PR} (w - x(t))$$

12.3 Die Gleichung der Regelstrecke

Die Regelstrecke ist wie im Leitbeispiel 3 ein Proportional-Glied.
Auf sie wirkt die obige Störgröße $z(t) \neq 0$ ein.

Regelstrecke:

$$(S 10) \quad \begin{aligned} x(t) &= k_{PS} y(t - T_t) + z(t) & t &\geq T_t \\ x(t) &= x_{anf}(t) + z(t) & t &< T_t \end{aligned}$$

12.4 Der Wert der Regelgröße $x(t)$ nach der Zeit t

Aus den Gleichungen für den Regler und der Regelstrecke folgt die Gleichung für den

Regelkreis:

$$(K 22) \quad \begin{aligned} x(t) &= k_{PS} k_{PR} (w - x(t - T_t)) + z(t) && \text{für } t \geq T_t \\ x(t) &= x_{anf}(t) + z(t) && \text{für } t < T_t \end{aligned}$$

12.5 Der Wert der Regelgröße x_n nach dem n -ten Zeitabschnitt Δt

Wir wollen die Wasserhöhe nach 1 Zeitabschnitt, nach 2 Zeitabschnitten, nach 3 Zeitabschnitten, allgemein die Wasserhöhe x_n nach n Zeitabschnitten Δt (Δt ist fest vorgegeben und man kann z.B. für einen Zeitabschnitt eine Sekunde wählen) berechnen. Man definiert x_n als Wasserhöhe nach n Zeitabschnitten Δt , und die Totzeit T_t bestehe aus S Zeitabschnitten Δt

$$x_n := x(n \cdot \Delta t)$$

$$T_t := S \cdot \Delta t \quad (S = T_t / \Delta t)$$

Für t muß nun $n \cdot \Delta t$ in die folgende Gleichungen des Regelkreises eingesetzt werden:

Regelkreis:

$$(K 23) \quad \begin{aligned} x(t) &= k_{PS} k_{PR} (w - x(t - T_t)) + z(t) && \text{für } t \geq T_t \\ x(t) &= x_{anf}(t) + z(t) && \text{für } t < T_t \end{aligned}$$

und ergibt:

12.5.1 Die Gleichung des Regelkreises für $n \cdot \Delta t < T_t$

$$x(n \cdot \Delta t) = x_{anf}(n \cdot \Delta t) + z(n \cdot \Delta t) \quad \begin{aligned} &\text{für } n \cdot \Delta t < T_t \\ &\text{bzw. } n < T_t / \Delta t = S \end{aligned}$$

also:

$$x_n = x_{anf_n} + z_n \quad \text{für } n < S$$

12.5.2 Die Gleichung des Regelkreises für $n \cdot \Delta t \geq T_t$

$$x(n \cdot \Delta t) = k_{PS} k_{PR} (w - x(n \cdot \Delta t - S \cdot \Delta t)) + z(n \cdot \Delta t) \quad \text{für } n \cdot \Delta t \geq T_t \\ \text{bzw } n \geq T_t / \Delta t = S$$

$$x(n \cdot \Delta t) = k_{PS} k_{PR} (w - x((n-S) \cdot \Delta t)) + z(n \cdot \Delta t) \quad \text{für } n \geq S$$

also:

$$x_n = k_{PS} k_{PR} (w - x_{n-S}) + z_n \quad \text{für } n \geq S$$

Zusammengefaßt:

Regelkreis:

(K 24) $x_n = k_{PS} k_{PR} (w - x_{n-S}) + z_n$	für $n \geq S$
(K 25) $x_n = x_{anf_n} + z_n$	für $n < S$

Das heißt: aus der Wasserhöhe x_{n-S} ($n \geq S$), und der Störgröße z_n läßt sich die Wasserhöhe x_n berechnen.

Es gilt:

x_0, x_1, \dots, x_{S-1} lassen sich mit (K 25) berechnen,
 x_n ($n \geq S$) mit (K 24).

kurz: (Störgröße wird der einfacheren Schreibweise wegen weggelassen)

$$x_0, x_1, \dots, x_{S-1} \quad \text{mit (K 25)}$$

$$x_0 \rightarrow x_S \quad \text{mit (K 24)}$$

$$x_1 \rightarrow x_{S+1} \quad \text{mit (K 24)}$$

$$x_2 \rightarrow x_{S+2} \quad \text{mit (K 24)}$$

...

$$x_{S-1} \rightarrow x_{2S-1} \quad \text{mit (K 24)}$$

$$x_S \rightarrow x_{2S} \quad \text{mit (K 24)}$$

$$x_{S+1} \rightarrow x_{2S+1} \quad \text{mit (K 24)}$$

$$x_{S+2} \rightarrow x_{2S+2} \quad \text{mit (K 24)}$$

...

$$x_{2S-1} \rightarrow x_{3S-1} \quad \text{mit (K 24)}$$

$$x_{2S} \rightarrow x_{3S} \quad \text{mit (K 24)}$$

$$x_{2S+1} \rightarrow x_{3S+1} \quad \text{mit (K 24)}$$

$$x_{2S+2} \rightarrow x_{3S+2} \quad \text{mit (K 24)}$$

...

$$x_{3S-1} \rightarrow x_{4S-1} \quad \text{mit (K 24)}$$

Das heißt man kann die Wasserhöhe nach einem beliebigen Zeitabschnitt t_n berechnen !!!

folgende konkrete Werte eingesetzt ergibt:

$$\Delta t = 0,1$$

$$T_t = 1 \quad (S = 10)$$

$$k_{PR} = 1$$

$$k_{PS} = 0,5$$

$$w = 2$$

$$x_{anf_n} = 3 \quad \text{für } n < S$$

$$z_n = \sin(n \cdot \Delta t)$$

$$x_n = 0,5 \cdot (2 - x_{n-10}) + \sin(n \cdot \Delta t) \quad \text{für } n \geq 10$$

$$x_n = 2 + \sin(n \cdot \Delta t) \quad \text{für } n < 10$$

Aufgaben:

1) Erstellen Sie eine Tabelle (und ein Diagramm), in der x_n für $n = 0, 1, 2, 3, \dots$ und Werten von $\Delta t = 0,1$ $w = 2$ $k_{PR} = 1$ $k_{PS} = 0,5$ $T_t = 1$ $x_{anf_n} = 3$ für $n < S$ $z_n = \sin(n \cdot \Delta t)$ berechnet und angezeigt wird.

2) Verändern Sie die Werte von w , k_{PR} , k_{PS} usw. und betrachten Sie das dazugehörige Diagramm.

Wählen Sie k_{PR} und k_{PS} so, daß:

a) $|k_{PR} \cdot k_{PS}| < 1$

b) $k_{PR} \cdot k_{PS} = 1$

c) $|k_{PR} \cdot k_{PS}| > 1$

und betrachten Sie den Verlauf von x_n .

4) Bestätigen Sie, daß für $|k_{PR} \cdot k_{PS}| < 1$ und einer konstanten Störgröße z die Regelgröße x_n

sich dem Wert $g = \frac{k_{PR} \cdot k_{PS} \cdot w + z}{k_{PR} \cdot k_{PS} + 1}$ nähert (für „große“ n).

13 Rechenbeispiel zu Leitbeispiel 3: idealer I-Regler, P-Regelstrecke mit Störgröße, mit Totzeit mit Verzögerung 0. Ordnung.

Gegeben sei ein Regelkreis wie aus dem Leitbeispiel 3, allerdings mit einer Störgröße $z(t) \neq 0$ und einem Integralregler statt eines Proportionalreglers.

13.1 Bekannte Größen (Kenngrößen) des Regelkreises

Regler:	I- T_1	(I-Glied ohne Totzeit mit Verzögerung 1. Ord.)
Regelstrecke:	P- $T_t - T_0$	(P-Glied mit Totzeit mit Verzögerung 0. Ord.)
Führungsgröße	$w = 2$	
Konstante:	$k_{IR} = 2$	
Konstante:	$k_{PS} = 0,5$	
Totzeit:	$T_t = 1$	
Anfangswasserhöhe:	$x(t) = x_{anf}(t) = 3$	für $0 \leq t < T_t$
Anfangsstellgröße	$y(0) = y_{anf} = 2$	
Störgröße:	$z(t) = \sin t$	

13.2 Die Gleichung des Reglers

Der Regler ist (im Gegensatz zu Leitbeispiel 3) ein Integralregler (ohne Totzeit), das heißt die Abweichung $x_d = w - x$ von der Führungsgröße w ist proportional der Geschwindigkeit der Stellgröße y :

Regler:

$$(R 11) \quad y_v(t) = k_{IR} (w - x(t))$$

Durch den Integralregler ist zwar $y_v(0)$ durch die Anfangswasserhöhe $x(0)$ bestimmt, aber die Anfangsstellgröße $y(0)$ ist noch unbestimmt und muß deswegen gegeben sein.

13.3 Die Gleichung der Regelstrecke

Die Regelstrecke ist wie im Leitbeispiel 3 ein Proportional-Glied.
Auf sie wirkt die obige Störgröße $z(t) \neq 0$ ein.

Regelstrecke:

$$(S 11) \quad \begin{aligned} x(t) &= k_{PS} \int y(t - T_t) dt + z(t) && \text{für } t \geq T_t \\ x(t) &= x_{anf}(t) + z(t) && \text{für } t < T_t \end{aligned}$$

da $y(0)$ gegeben ist, kann man aus Gleichung (S 11) ($t = T_t$ eingesetzt) folgendes berechnen:

$$\begin{aligned} x(T_t) &= k_{PS} \int y(T_t - T_t) dt + z(T_t) \\ &= k_{PS} y(0) + z(T_t) \end{aligned}$$

zusammengefaßt:

$$\begin{aligned} \text{(G 14)} \quad x(t) &= k_{PS} y(t - T_t) + z(t) && \text{für } t > T_t \\ x(T_t) &= k_{PS} y(0) + z(T_t) \\ x(t) &= x_{anf}(t) + z(t) && \text{für } t < T_t \end{aligned}$$

daraus folgt:

(mathematisch exakt formuliert: Die Gleichung (G 14) wird auf jeder Seite "abgeleitet", wobei der Begriff "Ableitung" ein mathematischer Fachausdruck ist).

Regelstrecke:

$$\begin{aligned} \text{(S 12)} \quad v(t) &= k_{PS} yv(t - T_t) + zv(t) && \text{für } t \geq T_t \\ x(T_t) &= k_{PS} y(0) + z(T_t) \\ x(t) &= x_{anf}(t) + z(t) && \text{für } t < T_t \end{aligned}$$

13.4 Der Wert von $v(t)$ nach der Zeit t

Aus den Gleichungen (R 11), (S 12) folgt:

$$v(t) = k_{PS} k_{IR}(w - x(t - T_t)) + zv(t) \quad \text{für } t \geq T_t$$

zusammengefaßt:

Regelkreis:

$$\begin{aligned} \text{(K 26)} \quad v(t) &= k_{PS} k_{IR}(w - x(t - T_t)) + zv(t) && \text{für } t \geq T_t \\ x(t) &= x_{anf}(t) + z(t) && \text{für } t < T_t \\ x(T_t) &= k_{PS} y(0) + z(T_t) \end{aligned}$$

13.5 Der Wert von v_n nach dem n-ten Zeitabschnitt Δt

Wir wollen die Wasserhöhe nach 1 Zeitabschnitt, nach 2 Zeitabschnitten, nach 3 Zeitabschnitten, allgemein die Wasserhöhe x_n nach n Zeitabschnitten Δt (Δt ist fest vorgegeben und man kann z.B. für einen Zeitabschnitt eine Sekunde wählen) berechnen. Man definiert v_n als Geschwindigkeit des Wasserpegels (mit der Wasserhöhe x) nach n Zeitabschnitten Δt , und die Totzeit T_t bestehe aus S Zeitabschnitten Δt , außerdem definiert man:

$$x_n := x(n \cdot \Delta t)$$

$$v_n := v(n \cdot \Delta t)$$

$$x_{anf_n} := x_{anf}(n \cdot \Delta t)$$

$$z_{v_n} := z_v(n \cdot \Delta t)$$

$$z_n := z(n \cdot \Delta t)$$

$$T_t := S \cdot \Delta t \quad (S = T_t / \Delta t)$$

$t = n \cdot \Delta t$ bzw. $T_t = S \cdot \Delta t$ wird in die folgenden Gleichungen des Regelkreises eingesetzt:

Regelkreis:

$$\begin{aligned} \text{(K 27)} \quad v(t) &= k_{PS} \cdot k_{IR} (w - x(t - T_t)) + z_v(t) && \text{für } t \geq T_t \\ x(T_t) &= k_{PS} \cdot y(0) + z(T_t) \\ x(t) &= x_{anf}(t) + z(t) && \text{für } t < T_t \end{aligned}$$

und ergibt:

13.5.1 Der Wert von x_n nach dem n-ten Zeitabschnitt Δt (für $n \cdot \Delta t < T_t$)

$$x(n \cdot \Delta t) = x_{anf}(n \cdot \Delta t) + z(n \cdot \Delta t) \quad \begin{array}{l} \text{für } n \cdot \Delta t < T_t \\ \text{bzw } n < T_t / \Delta t = S \end{array}$$

$$x_n = x_{anf_n} + z_n \quad \text{für } n < S$$

13.5.2 Der Wert von x_n nach dem n-ten Zeitabschnitt Δt (für $n \cdot \Delta t = T_t$)

$$x(T_t) = k_{PS} \cdot y(0) + z(T_t)$$

$$x(S \cdot \Delta t) = k_{PS} \cdot y(0 \cdot \Delta t) + z(S \cdot \Delta t)$$

$$x_S = k_{PS} \cdot y_0 + z_S$$

13.5.3 Der Wert von v_n nach dem n -ten Zeitabschnitt Δt (für $n \cdot \Delta t \geq T_t$)

$$v(n \cdot \Delta t) = k_{PS} k_{IR} (w - x(n \cdot \Delta t - S \cdot \Delta t)) + z v(n \cdot \Delta t) \quad \text{für } n \cdot \Delta t \geq T_t \\ \text{bzw } n \geq T_t / \Delta t = S$$

$$v(n \cdot \Delta t) = k_{PS} k_{IR} (w - x((n - S) \cdot \Delta t)) + z v(n \cdot \Delta t) \quad \text{für } n \geq S$$

also:

$$v_n = k_{PS} k_{IR} (w - x_{n-S}) + z v_n \quad \text{für } n \geq S$$

zusammengefaßt:

$$(G 15) \quad v_n = k_{PS} k_{IR} (w - x_{n-S}) + z v_n \quad \text{für } n \geq S \\ x_n = k_{PS} * y_0 + z_n \quad \text{für } n = S \\ x_n = x_{anf_n} + z_n \quad \text{für } n < S$$

13.6 Der angenäherte Wert der Regelgröße x_n nach dem n -ten Zeitabschnitt Δt

Die Geschwindigkeiten v_n , v_{anf_n} , $z v_n$ lassen sich, siehe (V 1), annähern durch:

$$v_n \approx (x_{n+1} - x_n) / \Delta t$$

$$z v_n \approx (z_{n+1} - z_n) / \Delta t$$

eingesetzt in Gleichung (G 15) ergibt:

$$(x_{n+1} - x_n) / \Delta t \approx k_{PS} k_{IR} (w - x_{n-S}) + (z_{n+1} - z_n) / \Delta t \quad \text{für } n \geq S \\ x_n = k_{PS} * y_0 + z_n \quad \text{für } n = S \\ x_n = x_{anf_n} + z_n \quad \text{für } n < S$$

daraus folgt:

Regelkreis:

(K 28)	$x_{n+1} \approx k_{PS} k_{IR} \Delta t * (w - x_{n-S}) + z_{n+1} - z_n + x_n$	für $n \geq S$
(K 29)	$x_n = k_{PS} * y_{anf} + z_n$	für $n = S$
(K 30)	$x_n = x_{anf_n} + z_n$	für $n < S$

Das heißt: aus der Wasserhöhe x_{n-S} ($n \geq S$), der Wasserhöhe x_n und der Störgröße z_n und z_{n+1} läßt sich die Wasserhöhe x_{n+1} berechnen.

Es gilt:

x_0, x_1, \dots, x_S lassen sich mit (K 29) bzw. (K 30) berechnen,
 x_{n+1} ($n \geq S$) mit (K 28).

kurz: (Störgrößen werden der einfacheren Schreibweise wegen weggelassen)

x_0, x_1, \dots, x_S mit (K 29) bzw. (K 30)

$x_0 \rightarrow x_{S+1}$ mit (K 28)

$x_1 \rightarrow x_{S+2}$ mit (K 28)

$x_2 \rightarrow x_{S+3}$ mit (K 28)

...

$x_{S-1} \rightarrow x_{2S}$ mit (K 28)

$x_S \rightarrow x_{2S+1}$ mit (K 28)

$x_{S+1} \rightarrow x_{2S+2}$ mit (K 28)

$x_{S+2} \rightarrow x_{2S+3}$ mit (K 28)

...

$x_{2S} \rightarrow x_{3S+1}$ mit (K 28)

$x_{2S+1} \rightarrow x_{3S+2}$ mit (K 28)

$x_{2S+2} \rightarrow x_{3S+3}$ mit (K 28)

$x_{2S+3} \rightarrow x_{3S+4}$ mit (K 28)

...

$x_{3S+1} \rightarrow x_{4S+2}$ mit (K 28)

$x_{3S+2} \rightarrow x_{4S+3}$ mit (K 28)

...

Das heißt man kann die Wasserhöhe nach einem beliebigen Zeitabschnitt t_n berechnen !!!

Aufgaben:

1) Erstellen Sie eine Tabelle (und ein Diagramm), in der x_n für $n = 0, 1, 2, 3, \dots$ und Werten von $\Delta t = 0,1$ $w = 2$ $k_{IR} = 1$ $k_{PS} = 0,5$ $T_t = 1$ $x_{anf_n} = 3$ für $n < S$ $y(0) = y_{anf} = 2$ $z_n = \sin(n * \Delta t)$ berechnet und angezeigt wird.

2) Verändern Sie die Werte von w , k_{IR} , k_{PS} usw. und betrachten Sie das dazugehörige Diagramm.

3) Wählen Sie k_{IR} und k_{PS} so, daß x_n nicht unbeschränkt wächst oder fällt.